

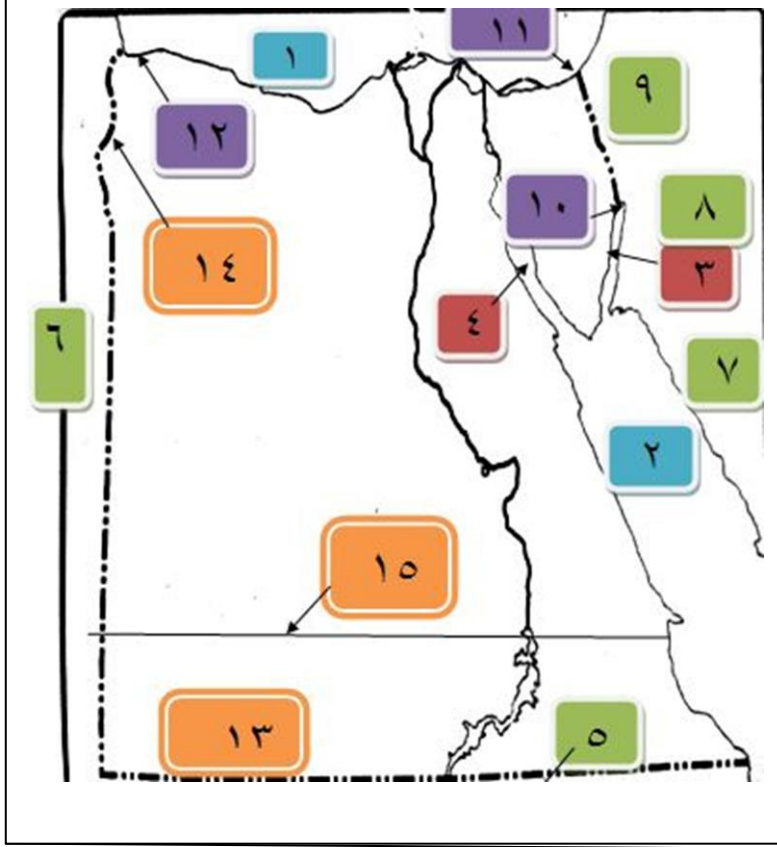


خريطة جمهورية مصر العربية

كبير معلمين
/ / فاطمه عوض

اولا موقع مصر

امامك خريطة صماء لمصر اكتب ما تشير اليه الارقام الآتية :-



١- البحر

٢- البحر

٣- خليج

٤- خليج

٥- دوله

٦- دوله

٧- دوله

٨- دوله

٩- دوله

١٠- مدينه ...

١١- مدينه ...

١٢- مدينه ...

١٣- دائره عرض ..

١٤- خط طول ...

١٥- مدار

الاجابه

١- المتوسط ٢- الاحمر ٣- العقبة ٤- السويس ٥- السودان

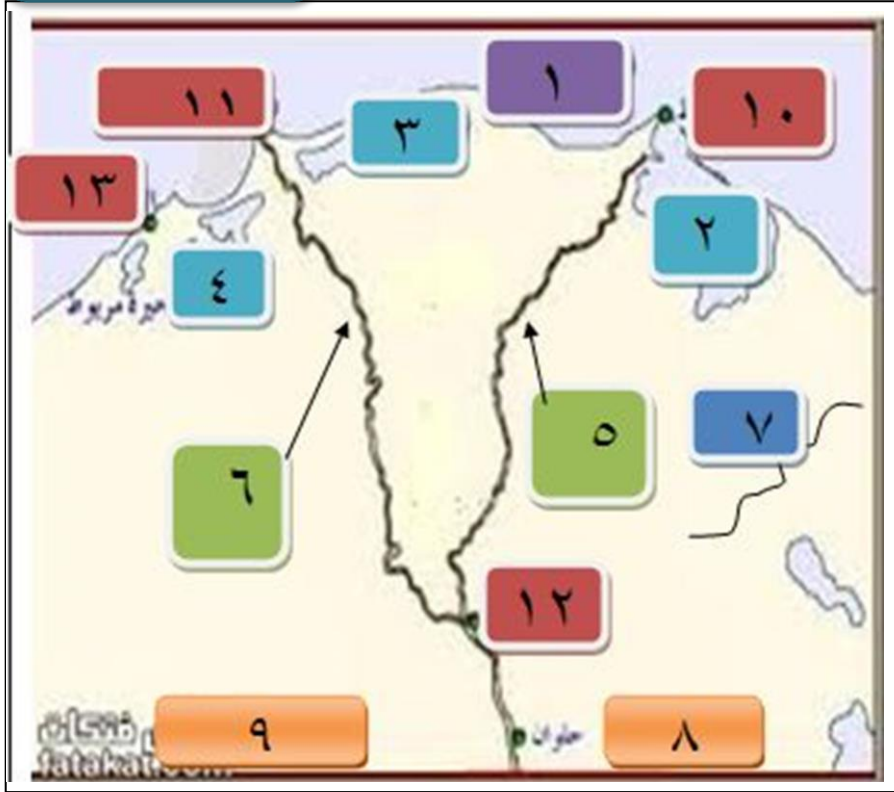
٦- ليبيا ٧- السعودية ٨- الاردن ٩- فلسطين ١٠- طابا

١١- رفح ١٢- السلوم ١٣- ٢٢ شمالا ١٤- ٢٥ شرقا

١٥ - مدار السرطان

كبير معلمين
// فاطمه عوض

امامك خريطة صماء للدلتا وضع ما تدل عليه الارقام

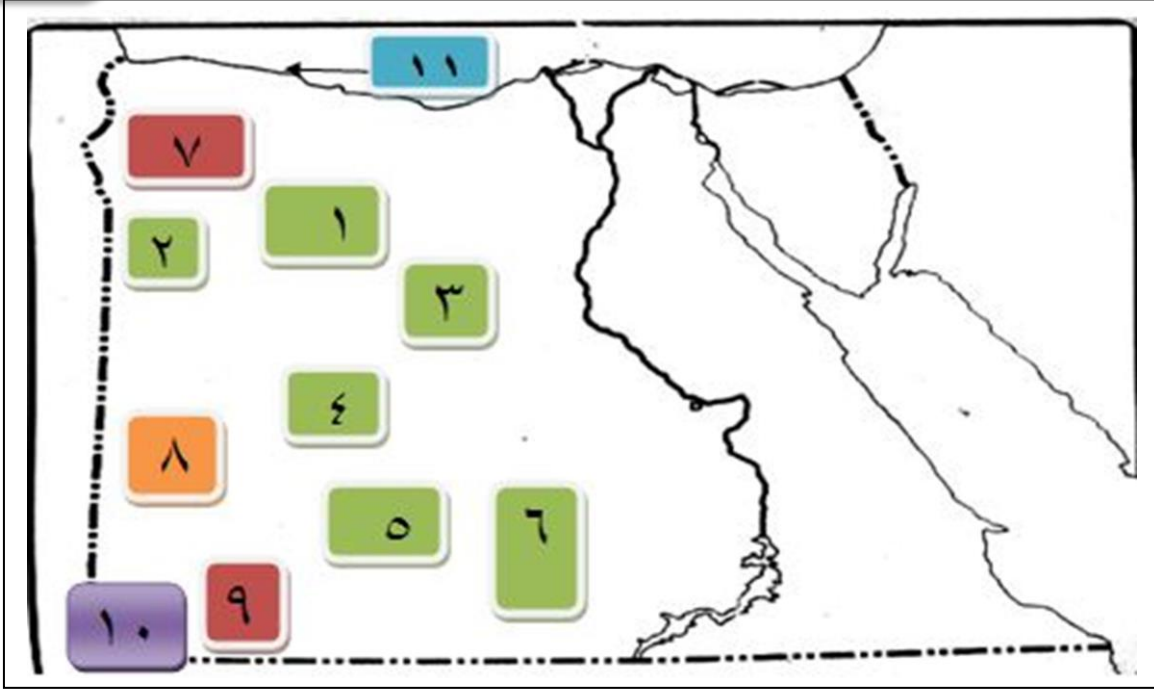


- ١- البحر.....
- ٢- بحيره.....
- ٣- بحيره.....
- ٤- بحيره.....
- ٥- فرع.....
- ٦- فرع.....
- ٧- وادى.....
- ٨- الصحراء.....
- ٩- الصحراء.....
- ١٠- مدينه.....
- ١١- مدينه.....
- ١٢- مدينه.....
- ١٣- مدينه.....

الاجابه

- ١- المتوسط
- ٢- المنزله
- ٣- البرلس
- ٤- ادكو
- ٥- دمياط
- ٦- رشيد
- ٧- الطميلات
- ٨- الشرقية
- ٩- الغربية
- ١٠- دمياط
- ١١- رشيد
- ١٢- القاهره
- ١٣- الاسكندرية

امامك خريطة صماء للصحراء الغربية اكتب ما تدل عليه الارقام



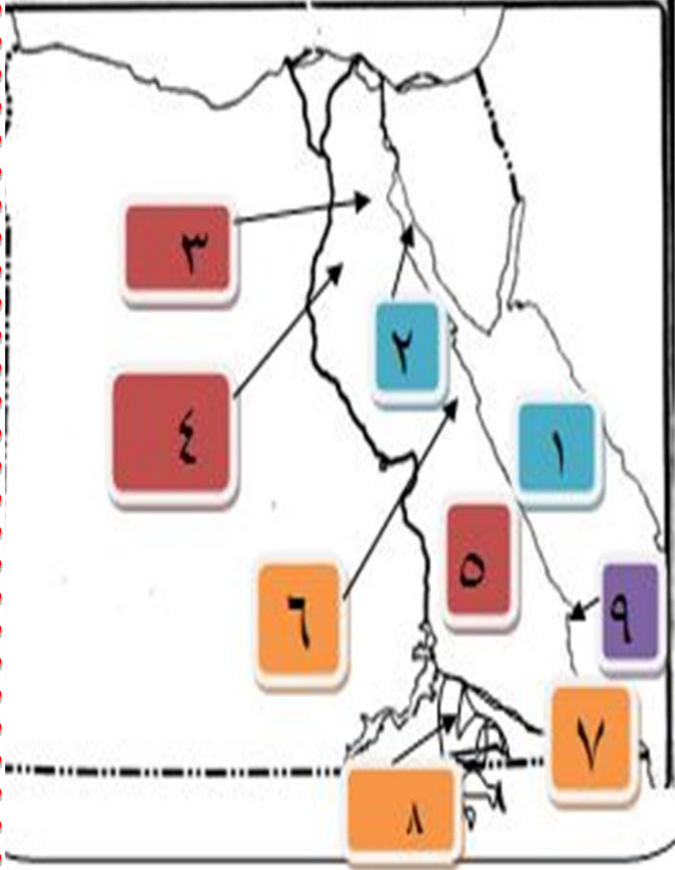
- ١-منخفض ٢- منخفض ٣- منخفض
 ٤- منخفض ٥- منخفض ٦- منخفض
 ٧-هضبه ٨- تكوينات رمليه ٩- هضبه
 ١٠- جبل ١١- راس

الإجابة ١-القطاره ٢- سيوه ٣- البحرية ٤- الفرازة
 ٥-الداخله ٦- الخارجة ٧- مارمريكا ٨- بحر الرمال
 العظيم ٩- الجلف الكبير ١٠- العوينات ١١- علم الروم

كبير معلمين

/ فاطمه

امامك خريطة صماء للصحراء الشرقية اكتب ما تدل عليه الارقام



١- البحر.....

٢- خليج.....

٣- هضبه.....

٤- هضبه.....

٥- هضبه.....

٦- جبل.....

٧- جبل.....

٨- وادى.....

٩- مدينه.....

٩- راس.....

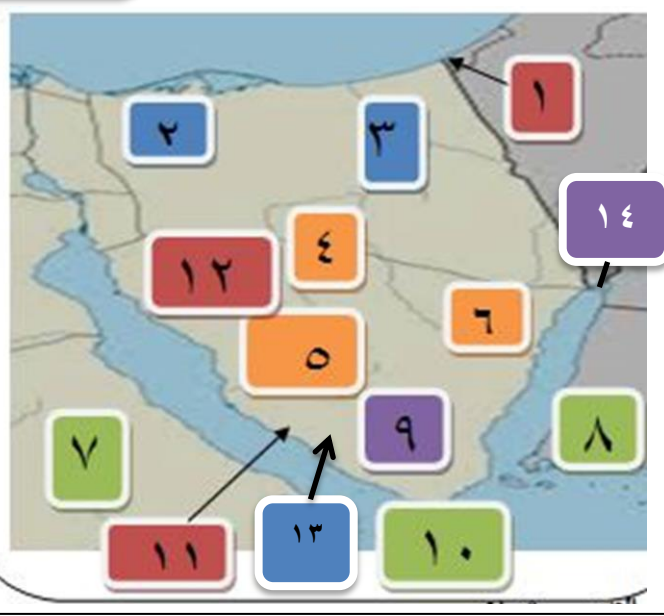
الاحابه

١- الاحمر - السويس ٣- الجلالة البحرية - الجلالة القبليه

٥- العبادة ٦- الشايب ٧- علبه ٨- العلاقي ٩- بناس

كبير
معلمين

امامك خريطة صماء لشبه جزيره سيناء اكتب ما تدل عليه
الارقام



..... ١-مدينه

..... ٢-بحيره

..... ٣-وادي

..... ٤-هضبه

..... ٥-هضبه

..... ٦-وادي

..... ٧-خليج

..... ٨-خليج

..... ٩-جبل

..... ١٠-مدينه

..... ١١-مدينه

..... ١٢-وادي

..... ١٣-سهل

..... ١٤-مدينه

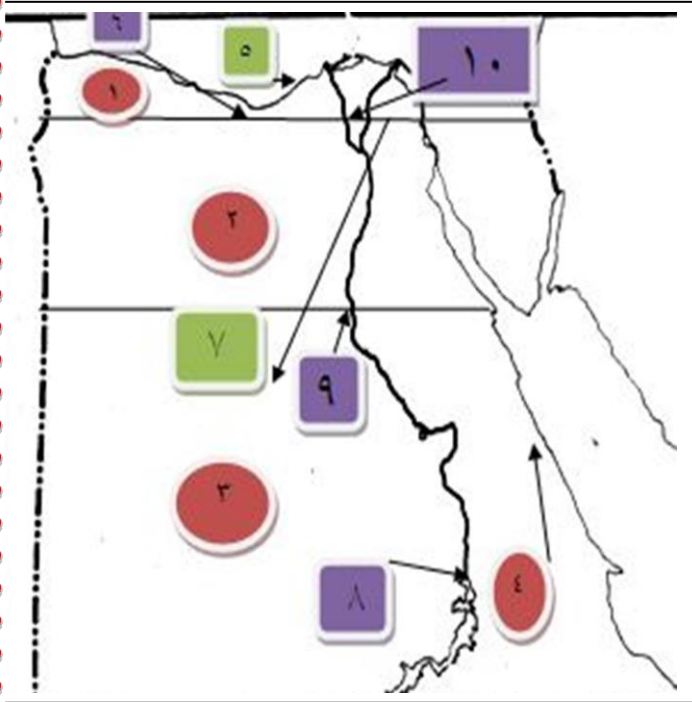
الاجابه ١-رفح ٢-البردويل ٣-العريش

٤-التيه ٥-العجمة ٦-وتير ٧-السويس

٨-العقبه ٩-سانت كاترين ١٠-شرم الشيخ ١١-الطور

١٢-فيران ١٣-سهل القاع ١٤-طابا

امامك خريطة صماء لمصر اكتب ماتدل عليه الارقام الاتيه

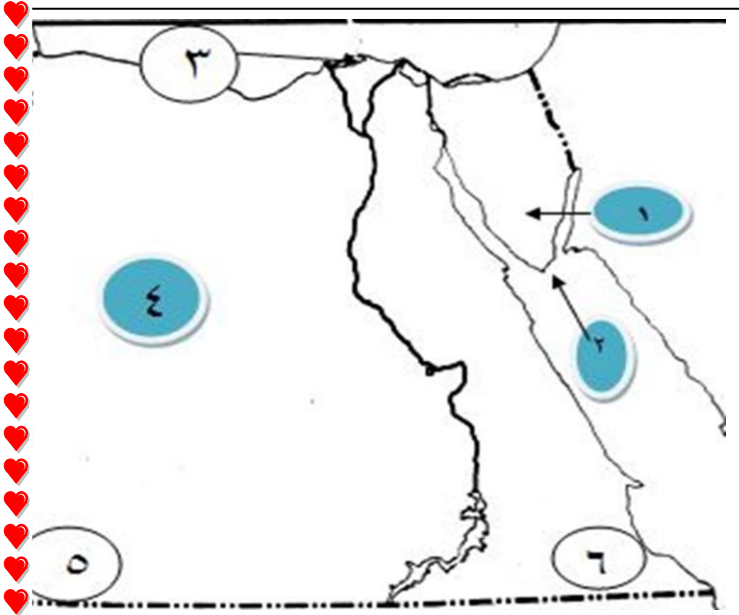


- ١- اقليم مناخي.....
- ٢- اقليم مناخي.....
- ٣- اقليم مناخي.....
- ٤- اقليم مناخي.....
- ٥- اغزر من مصر مطرا
- ٦- الرياح.....
- ٧- الرياح.....

٨- مدينه ٩- مدينه ١٠- مدينه

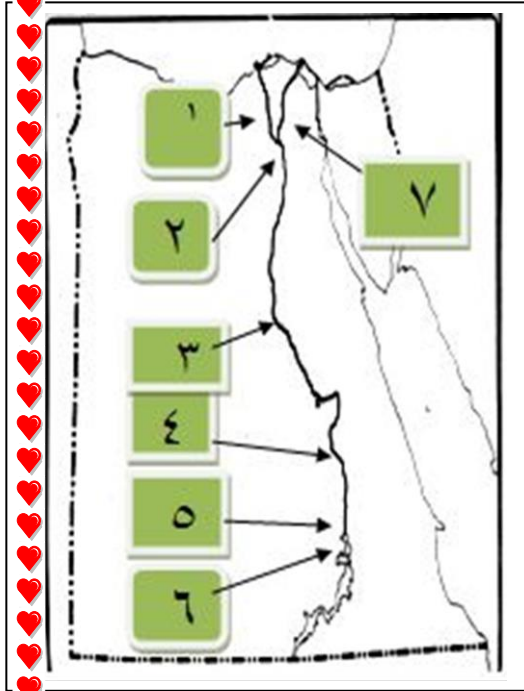
الإجابة ١- البحر المتوسط ٢- شبه الصحراوي ٣- الصحراوي ٤- المرتفعات ٥- الاسكندريه ٦- الغربية العكسيه ٧- التجاربه ٨- اسوان ٩- المنيا ١٠- طنطا

امامك خريطة صماء اكتب ماتدل عليه الارقام الاتيه



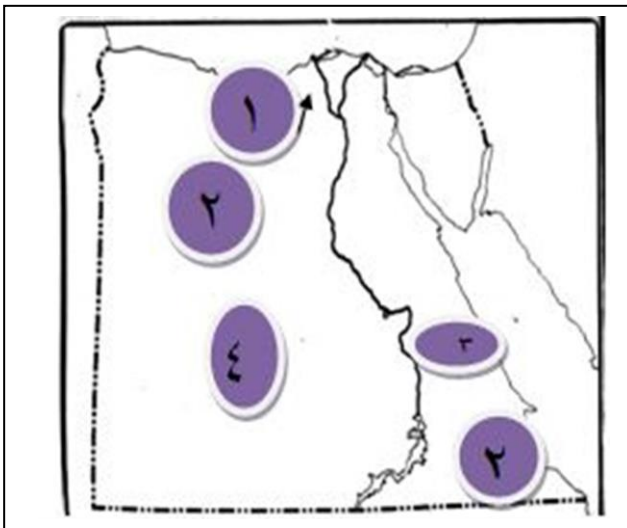
- ١- محميه (سانت كاترين)
- ٢- محميه (راس محمد)
- ٣- محميه (البرلس)
- ٤- محميه (الصحراء البيضاء)
- ٥- محميه (الجلف الكبير)
- ٦- محميه (جبل علبه)

امامك خريطة صماء اكتب ماتدل عليه الارقام الاتيه



- ١- ترعه (النوبارية)
- ٢- القناطر.... (الخيرية)
- ٣- ترعه (الإبراهيمية)
- ٤- قناطر.... (اسنا)
- ٥- خزان.... (اسوان)
- ٦- السد.... (العالي)
- ٧- ترعه (الإسماعيلية)

امامك خريطة صماء اكتب ماتدل عليه الارقام الاتيه

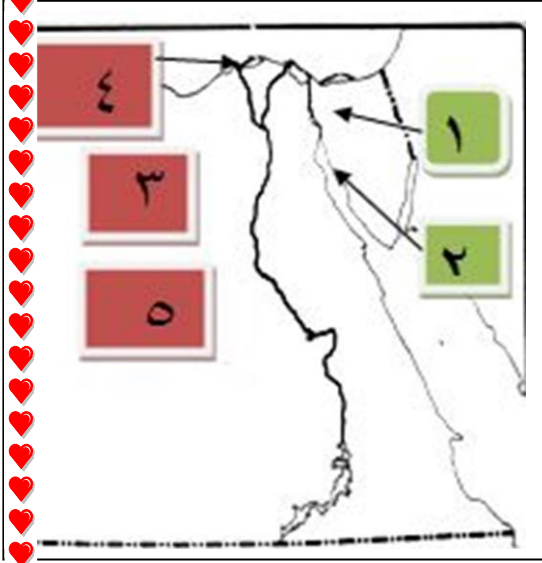


- ١-منطقة لإنتاج الحديد...
- ٢منطقة لإنتاج المنجنيز
- ٣-مناجم الذهب
- ٤-منطقة لإنتاج الفوسفات
- ٥-منطقة رمال الزجاج

الإجابيه

- ١- الواحات البحريه ٢- جبل علبه ٣- السكرى
- ٤- ابو طرطور ٥- وادي النظرون

امامك خريطة صماء اكتب ماتدل عليه الارقام الاتيه

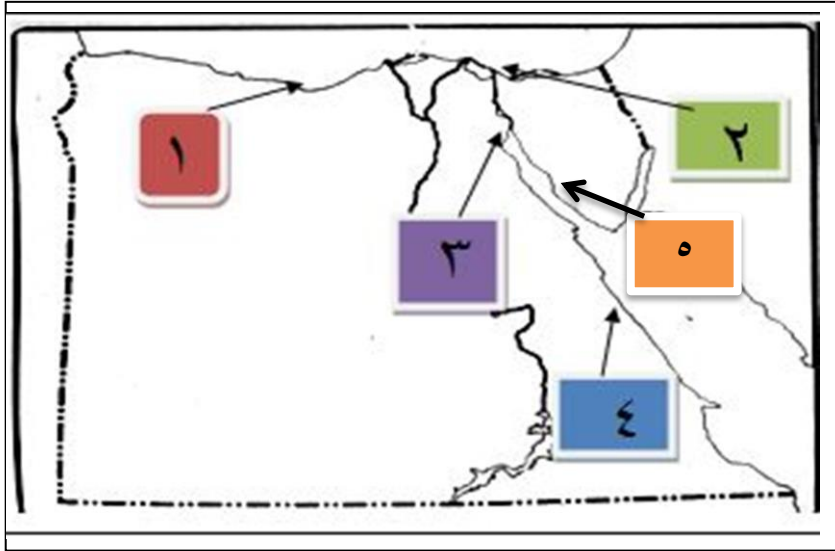


- ١- منطقه لإنتاج الفحم
- ٢- منطقه لإنتاج البترول
- ٣- منطقه لإنتاج البترول
- ٤- منطقه لإنتاج الغاز الطبيعي
- ٥- حقل ينتج منه بترول والغاز الطبيعي

الإجابة

- ١- جبل مغاره
- ٢- سدر
- ٣- الرزاق
- ٤- ابوقير
- ٥- ابو الغرا ديق

امامك خريطة صماء اكتب ماتدل عليه الارقام الاتيه



- ١- ميناء
- ٢- ميناء
- ٣- ميناء
- ٤- ميناء
- ٥- ميناء

الإجابة

- ١- الاسكندريه
- ٢- بورسعيد
- ٣- السويس
- ٤- سفاجه
- ٥- الطور