

مراجعة ليلة الامتحان

2018

لسلسلة الأبدان

المراجعة النهائية في الجغرافيا

أ/ رافت عبدالعال الكومى

الوحدة الثانية

# الوحدة الثانية = الدرس الأول: الحدود السياسية

## ما المقصود بالمفاهيم الجغرافية التالية

الحدود السياسية هي خطوط ترسم على الخريطة تحدد الرقعة الارضية التي تمارس فيها الدولة سيادتها وتنتهي عندها هذه السيادة وتبدأ سيادة دولة أخرى ولا بد أن تعترف بهذه الحدود الدول المجاورة والمجتمع الدولي .

الحدود السياسية

منطقة جغرافية لها مساحة ذات بعدى طول وعرض كانت مناطق تقصل بين الدول المجاورة

التخوم

## يعرّف

يُعرّف تخطيط الحدود بعدة مراحل؟

رتب مراحل رسم الحدود السياسية من بداية الى النهاية

- حيث يمر تخطيط الحدود بأربعة مراحل متتالية وهي كما يلي

١. مرحلة التعريف والتخطيط ((مرحلة وضع معاهدة الحد بكل دقة))
٢. مرحلة التحديد ((مرحلة تحديد موقع الحد على الخرائط التفصيلية))
٣. مرحلة التعيين ((مرحلة تعيين خط الحد على الطبيعة وتحقيقه على الخريطة))
٤. مرحلة ادارة الحد السياسي. ((مرحلة وضع حرس الحدود وتحديد نقاط التفتيش والجمارك))

اهمية الحدود السياسية لكل دولة

وضح ما هي وظيفة الحد السياسي

تعدد وظائف الحدود السياسية؟

ما النتائج المترتبة على قيام الدولة برسيم الحدود بينها وبين الدول الأخرى

١/ رافت عبدالعال عبدالرحمن  
محمول/ ٠١٩٣٧٣٠٨١٦

١. الفصل بين الدول

٢. توفير الامن والحماية للدولة..

٣. الحماية الاقتصادية

٤. تقوم بوظيفة سياسية وقانونية

تعد الحماية والأمن الأكثر أهمية للحدود السياسية؟

حدد صحة او خطأ مع ذكر السبب / تعد وظيفة الفصل بين الدول الأكثر أهمية للحدود السياسية

١. الغرض الأساسي من إقامة الحدود هو الأمن والحماية من الاعتداءات المفاجئة.

٢. تتركز الدفاعات العسكرية على طولها خاصة في القطاعات المعرضة لأخطار الغزو و التهريب.

٣. ساهمت التقنية الحديثة بدور كبير في حماية الحدود من خلال المراقبة الجوية و الأقمار الصناعية.

٤. ساهمت التقنية الحديثة إلى سقوط و فشل نظرية الحد الأمن بسبب التطورات الحديثة التي طرأت

على وسائل الحرب خاصة في مداها وسرعتها وفاعلية تدميرها وتخطيطها للعقبات خاصة العقبات

الطبيعية كالجبال

سلسلة الابداع

**التكنولوجيا والتقنيات سلاح ذو حدين على حماية حدود الدولة**  
**ما العلاقة بين التطور التكنولوجي ووظائف الحدود**  
**ما العلاقة بين التقنيات الحديثة (التكنولوجيا) وسقوط نظرية الحد الآمن**  
**من وجهة نظرك (توجد حدود سياسية محصنة ضد الاعتداءات الخارجية)**  
**ما النتائج المترتبة / استخدام التقنيات الحديثة بالنسبة للحدود السياسية**  
**ما نتائج تطور الحديث لوسائل الحرب بالنسبة للحدود السياسية**  
**ما العلاقة بين الثورة التكنولوجية والمعلوماتية وأثرها على وظائف الحدود السياسي**

### **إيجابيات التكنولوجيا والتقنيات الحديثة بالنسبة للحدود السياسية**

ساهمت التقنية الحديثة بدور كبير في حماية الحدود من خلال المراقبة الجوية و الأقمار الصناعية

### **سلبيات التكنولوجيا والتقنيات الحديثة بالنسبة للحدود السياسية**

كانت سببا في سقوط وفشل نظرية الحد الآمن بسبب التطورات الحديثة التي طرأت على وسائل الحرب خاصة في مداها وسرعتها وفعاليتها وتدميرها وتخطيها للعقبات خاصة العقبات الطبيعية كالجبال

### **مآلقة التقنيات الحديثه بالحدود السياسيه من حيث النشاه والوظيفه**

#### **التقنيات الحديثة ونشاه الحدود السياسية**

: بالاستعانة بالخرائط التفصيلية والصور الجوية والمرئيات الفضائية لتحديد الحد وتوقيه على الخرائط

#### **التقنيات الحديثة وظيفية الحد السياسي**

١. : ساهمت التقنية الحديثة بدور كبير في حماية الحدود من خلال المراقبة الجوية و الأقمار الصناعية

٢. كانت سببا في سقوط وفشل نظرية الحد الآمن بسبب التطورات الحديثة التي طرأت على وسائل الحرب خاصة في مداها وسرعتها وفعاليتها وتدميرها وتخطيها للعقبات خاصة العقبات الطبيعية كالجبال

### **اختفاء التخوم في خريطة العالم في الوقت الحالي**

#### **تعدد عوامل نشاه الحدود السياسية**

#### **وضح اهم عوامل المؤثرة في نشاه الحد السياسي بين الدول**

- ١- الزيادة السكانية
- ٢- تقسيم الاستعمار للمستعمراته
- ٣- عدم الرضاء على المناطق الهامشية
- ٤- المعاهدات بين الدول

### **لا تصلح التخوم في العصر الحالي عامل فصل بين الدول**

- بسبب ليس لها أساس قانوني أو معاهدة تحدد إطارها المكاني
- أحيانا يوجد بها موارد طبيعية لأنها بطبيعتها لها مساحة كالغابات والجبال

### **بم تفسر تطور نشأة الحدود عبر الأزمنة المختلفة**

**في العصور قديمة:-** كانت عبارة عن نقاط على هوامش الدولة أقيمت عندها قلاع وأسوار حول الممالك والدول المتجاورة كسور الصين العظيم، وأسوار وقلاع أقامها الرومان حول أطراف دولتهم

**في العصر الحديث:-** ومنذ ظهور الدولة القومية الحديثة في القرن 17م ظهرت الحدود الخطية المعروفة في الوقت الحالي خاصة مع ظهور الثورة الصناعية الأولى في بداية القرن 19م ومنذ ذلك الحين استخدمت عمليات المسح الميداني في رسم الحدود بين الدول

### **يلعب الحد السياسي وظيفه سياسية وقانونية للدولة**

**تسعى الدولة المحافظة على شخصيتها السياسية داخل حدودها**





## ماذا يحدث اذا / لم يلعب الحد السياسي وظيفه سياسية وقانونية للدولة

- **وظيفة سياسية:-** حيث تسعى كل دولة المحافظة على شخصيتها السياسية داخل حدودها من خلال
- أ. منع دخول الأشخاص غير المرغوب فيهم أيدولوجيًا خشية تهديد التماسك القومي للبلاد .
- ب. كما يمنع على الحدود عبور الصحف والمجلات والكتب التي تضر بسلامة الوطن.
- **وظيفة قانونية:-** عن طريق الحد السياسي يحدد القوانين التي سيخضع لها كل فرد من الأفراد ما دام داخل حدود الدولة

## ما العلاقة بين

### ما العلاقة بين الحاجة الى تنمية المناطق الهامشية ونشأة الحدود السياسية

#### دليل / لتنمية المناطق الهامشية دور كبير في نشأة الحدود السياسية

دفع عدم رضا الدولتين عن الوضع الغامض لمناطقها الهامشية كالمناطق الصحراوية مما دفعهما إلى تنمية هذه المناطق واستغلالها واكتشاف ما بها من موارد اقتصادية، وبالتالي ترسيم الحدود الخطية على اليابس أو على المسطحات المائية المشتركة بين هاتين الدولتين

### ما العلاقة الحروب ونشأة الحدود السياسية

- أثرت الحروب على نشأة الحدود الخطية. مثال على ذلك:- حدود الغالب والمغلوب ،
- وحدود الهدنة التي أصبحت بمثابة حدود سياسية.

### ما العلاقة بين تصفية الاستعمار لمستعمراته و الحدود السياسية ؟

⊙ الكثير من الحدود الخطية خاصة في المستعمرات الأوروبية في إفريقيا وآسيا وأمريكا الجنوبية ، وكمثال واضح لذلك المستعمرات الفرنسية

⊙

### ما العلاقة بين (الزيادة السكانية ورسم الحدود السياسية)

#### ما العلاقة بين اوروبا ونشأة الحدود السياسية

بم تفسر :- رسمت الحدود الخطية بدلاً من التخوم في قارة اوروبا

#### ما اثر زيادة عدد السكان على نشأة الحدود السياسية

#### ما النتائج المترتبة على / تاثير زيادة عدد السكان في نشأة الحدود السياسية

⊙ دفعت زيادة السكان كل دولة إلى التوسع في مناطق التخوم المجاورة لها.

⊙ صاحب هذا التوسع تقدم وسائل النقل والمواصلات التي سهلت من عملية التوسع.

⊙ التقت الدول مع بعضها البعض عند نقطة يحدد عندها سيادة كل دولة بدقة.

أمثلتها ما حدث بقارة أوروبا حيث كانت الجبال والغابات بمثابة التخوم الفاصلة بين دول القارة بإزالة الغابات انكشفت الأرض وبالتالي رسمت الحدود الخطية للفصل بين الدول بدلاً من التخوم

### ما العلاقة بين :- الحد السياسي وسيادة الدولة.

بم تفسر // تمتاز الحدود السياسية بعدة خصائص وسمات

#### ما العلاقة بين / الحد السياسي وقوة الدولة دور اول ٢٠١٧

اذكروا وضح :- ما تحدد الحدود السياسية وضح اهمية وجود الحدود السياسية

من خلال رسم الحدود السياسية يتم التالي

١. تحدد المساحة الأرضية التي تفرض الدولة عليها سيادتها .



٢. تحدد الموارد الأرضية التي تسيطر عليها الدولة ضمن حدودها .  
٣. تحدد المجال الجوي والبحري التابع لسيادة الدول

## وضع العبارات التالية

١:- كيف تلعب الحد السياسي وظيفة الفصل بين الدول  
بم تفسر تلعب الحدود دوراً رئيسياً في الفصل بين الدول

تلعب الحدود دوراً رئيسياً في الفصل بين الدول،

١. وذلك من خلال توقيع اتفاقيات موثقة في وثائق رسمية بين الدول وموقعة على الخرائط .  
٢. بناء على ذلك توضع على طول الحدود الحواجز ونقط التفتيش ومراكز الحراسة والمراقبة الحدودية الخاصة بالدول، بجانب المنافذ الجمركية، وكذلك علامات الحدود بأشكالها وأنواعها المختلفة

وضح / كيف تعمل الحدود السياسية على الحماية الاقتصادية للدول  
ماذا يحدث إذا / لم تقم الحدود السياسية بوظيفة الحماية الاقتصادية للدول  
ما رأيك في العبارة التالية : للرسوم الجمركية على السلع المستوردة لها آثار ايجابية

١. مراقبة تدفق السلع والبضائع عبر الحد في الاتجاهين (للداخل - للخارج) لمنع تهريب السلع  
٢. تحديد الرسوم الجمركية على السلع المستوردة؛ لحماية منتجاتها المحلية .  
٣. حماية المواطنين من خلال فحص المنتجات المستوردة تحديد مدى صلاحيتها أو جودتها

وضح ما الاجراءات التي تتخذها الدول لكي لا تتضارب مصالحها الاقتصادية مع دول  
اخرى عند استثمار مواردها

لكي لا تتضارب مصالحها الاقتصادية مع دول اخرى عند استثمار مواردها

☆ تعيين حدودها بدقة حتى لا تحدث منازعات بين الدول نتيجة استغلال هذه الموارد.

☆ عقد اتفاقيات خاصة بنصيب كل دولة من الثروات التي توجد على الحدود مثل المخزون

البترول والغاز الطبيعي والثروات المعدنية مثل: البترول، والغاز الطبيعي بين دول الخليج وبين ليبيا وتونس.

محمول / ٠١٩٣٧٣٠٨٨٦

حدد أي العبارات التالية صحيحة وإيهما خطأ مع ذكر السبب في الحالتين

١	تتضمن تعيين الحد السياسي عدة امور ينبغي الأخذ بها في الاعتبار قيام بعض الدول بتغيير مسار حدودها السياسية .	
العبارة صح	يتم مراعاة بعض المسائل الصغيرة عند التحديد (كمزرعة مثلاً أو قرية يقع جزء منها في دولة والجزء الآخر في دولة ثانية) ، مما قد يؤدي إلى تغيير مسار الحد عدة مئات قليلة من الأمتار هنا أو هناك إذا اعترضته مزرعة أو شيء آخر	
٢	كثيراً من الحدود السياسية اليوم جاء نتيجة معاهدات مبرمة بين دولتين ظهرت الحدود السياسية الفعلية نتيجة إبرام المعاهدات بين الدول	
العبارة صح	كثير من حدود العالم اليوم جاء تحديدها بناء على معاهدة خشية طغيان دولة قوية على جارتها الضعيفة	
٣	الحدود السياسية هي ظاهرة طبيعية ليس للانسان دخل بها	

ساسة البرهان

٩١٥٩٣٧٣٠٨٨٦

العبارة خطأ	- لأن الإنسان هو الذي يقوم بتخطيطها تبعاً لمصالحه الاقتصادية والعسكرية و السياسية
٥-	لا تظهر الموارد الطبيعية بالتخوم اما الحدود السياسية تظهر بها موارد طبيعية
العبارة خطأ	الحدود السياسية لا تظهر بها موارد طبيعية :: لأنها مجرد خطوط تظهر الموارد الطبيعية بالتخوم :::: لأنها بطبيعتها لها مساحة طول وعرض
٦-	تظهر التخوم على الخرائط الحديثة على شكل خطوط تصل بين نقطتين )
العبارة خطأ	لان الذي يظهر على الخرائط الحديثة على شكل خطوط تصل بين نقطتين هو الحدود السياسية بينما التخوم كانت تظهر قديماً وخلال العصور الوسطى على شكل مساحة جغرافية من الارض لها طول وعرض
٧-	كانت التخوم مناطق غير صالحة للبشرة وليست تابعة لأي دولة
العبارة صح	حيث ان التخوم مناطق صعبة وغير صالحة للاستيطان البشري كالصحارى ولكن تم تركها من قبل الدول المتجاورة لتقوم بوظيفة الفصل بينها

## ماذا يحدث اذا / مقترحاتك

ماذا يحدث اذا / لم يتم ترسيم الحدود السياسية وتخطيطها بين الدول  
ماذا يحدث اذا / استمر العالم بلا حدود سياسية  
ماذا يحدث اذا / لم تستطع الدولة السيطرة على مناطق حدودها السياسية

١. صعوبة فرض الدولة سيادتها على مجالها الأراضي والجوي والبحري
٢. لم تلعب الحدود دوراً رئيساً في الفصل بين الدول
٣. تعدد النزاعات بين الدول على موارد الثروة، وتتضارب مصالح الدول عند استغلال موارد الثروة
٤. لم تستطع الدول من ان تجمي اقتصادها
٥. لم تستطع الدول فرض سيادتها وشخصيتها القانونية داخل حدودها

لم يتم عقد اتفاقيات خاصة بنصيب كل دولة من الثروات

١/ دافت عبدالمعالي عبدالرحمن  
محمول / ٠١٩٣٧٣٠٨٨٦

١. تتضارب مصالح الدول عند استغلال موارد الثروة التي توجد عند الحدود
٢. تحدث منازعات بين الدول نتيجة استغلال هذه الموارد

ايهما افضل من وجهة نظرك / الحدود السياسية م التخوم للدول؟ ولماذا

الحدود السياسية افضل للاسباب التالية /

١. ظاهرة قانونية شرعية تمت من خلال اتفاقية (تحدد حقوق وواجبات جانبي الحدود
  ٢. لها وظائف مثل :- الفصل بين الدول عن طريق وضع الجواجز ونقط التفيتش
  ٣. الحماية والامن من حيث تتركز الدفاعات العسكرية على طولها
  ٤. تستطيع الدول ان تحمي اقتصادها من تدفق السلع والرسوم الجمركية
- لا تصلح التخوم ذلك لانها

١. مناطق صعبة غير صالحة للاستيطان البشري كصحارى والغابات
٢. ليس قانوني او معاهدة تحدد اطرافها المكانية بدقة

# قارن بين / ما الفرق

التخوم	الحدود السياسية
مناطق جغرافية لها مساحة ( لها طول وعرض )	عبارة عن خطوط تفصل بين الدول
ظاهرة جغرافية	ظاهرة بشرية
ليس لها أساس قانوني أو معاهدة تحدد إطارها المكاني	ظاهرة قانونية شرعية تمت من خلال اتفاقية
ظاهرة ثابتة لا تتغير بتغير الظروف لا يمكن تحريكها فقد تتغير وظيفتها لكنها تبقى كما	ظاهرة قابلة للنقل والحركة والتغير والاختفاء لأنها ظاهرة بشرية
أحيانا يوجد بها موارد طبيعية لأنها بطبيعتها لها مساحة	لا تظهر بها موارد طبيعية لأنها مجرد خطوط.

## قارن بين إجراءات المرحلة الأولى والثالثة بم تفسر: - وضوح دور الجغرافيين في المرحلة الثالثة للتخطيط الحدود

المرحلة الأولى (التعريف والتخطيط)	المرحلة الثالثة (التعين)
<p>١. تشمل المعاهدة على وصف الحدود والمناطق التي ستحتزقها،</p> <p>٢. كلما كان الوصف تفصيليًا ودقيقًا كلما قلت احتمالات الاحتكاك والنزاع والعكس صحيح،</p> <p>٣. هذه المرحلة ترتبط بالقرارات السياسية التي تخصص منطقة الحدود</p>	<p>في هذه المرحلة يتم تعيين خط الحد على الطبيعة وتحقيقه على الخريطة ، ويستعان في هذه المرحلة بعدة أشياء منها:</p> <p>أ:- نصوص المعاهدة</p> <p>ب:- المعلومات التي جمعها الجغرافيون في المرحلة الثانية</p> <p>ج:- الخرائط التفصيلية</p> <p>د:- تستخدم طرق مختلفة في توضيح الحد مثل الأسلاك الشائكة وأعمدة من الحجارة أو الإسمنت المسلح أو بناء الأسوار</p>

توضيح الحد مثل الأسلاك الشائكة وأعمدة من الحجارة أو الإسمنت المسلح أو بناء الأسوار

**ما الفرق بين مرحلة تحديد الحد ومرحلة ادارة الحد  
 وضع اهم ما يتم الاتفاق عليه في مرحلة ادارة الحد بين الدولتين  
 بم تفسر: - وضوح دور الجغرافيين في المرحلة الثانية للتخطيط الحدود  
 ما المقصود بالمفاهيم الجغرافية الآتية: - إدارة الحد السياسي  
 حدد صحة او خطأ / تلجأ الدول الى الاستعانة بنظام الاستشعار عن بعد في إدارة الحد الساسية  
 ماذا يحدث اذا / لم تكن هناك نقاط التفيتش والجمارك والحراسة على الحدود**

المرحلة الثانية (تحديد الحد)	المرحلة الرابعة (إدارة الحد)
<p>١. تعطى للجنة الجغرافية صياغة المعاهدة لتحديد الحد على الخرائط</p> <p>٢. تقوم اللجنة بالاستعانة بالخرائط التفصيلية والصور الجوية والمرئيات الفضائية لتحديد الحد وتوقعه على الخرائط</p> <p>٣. يتم مراعاة بعض المسائل الصغيرة عند التحديد (كمزرعة مثلاً أو قرية يقع جزء منها في دولة والجزء الآخر في دولة ثانية)</p>	<p>يتم في هذه المرحلة المحافظة على الحد الخطى السياسي واستبقاء فاعليته وحراسته ، يتم الاتفاق في هذه المرحلة على ما يلي:</p> <p>أ:- . منافذ عبور الحد</p> <p>ب :-نقاط التفيتش والجمارك والحراسة والتحصينات .</p> <p>ج:- لجان فض المنازعات ووسائلها</p>

## اختر الإجابة الصحيحة مما بين القوسين

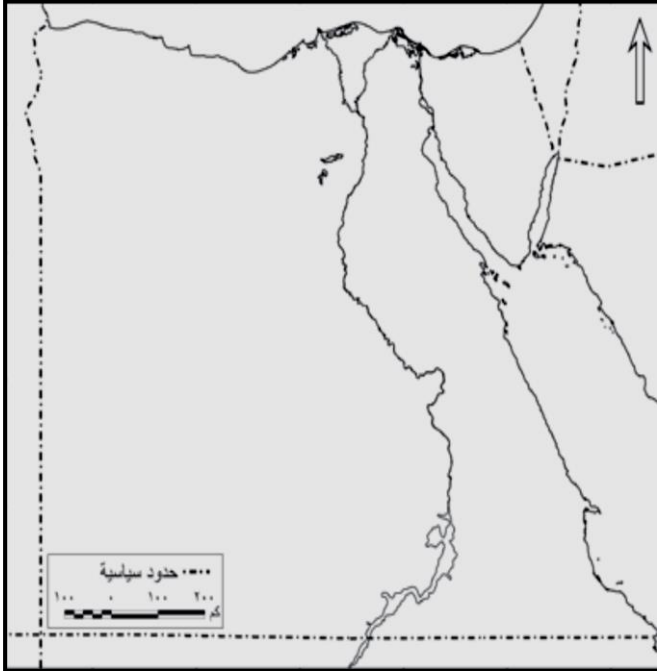
- ١) تعد الحدود السياسية ظاهرة ..... ( حضارية - طبيعية - بشرية - جغرافية )
- ٢) كانت الحدود قديماً عبارة عن ..... على هوامش الدولة ( خطوط - اسلاك - نقاط - تجمعات )
- ٣) تعد التخوم ظاهرة ..... ( ثابتة - قابلة للحركة والنقل - سياسية - بشرية )
- ٤) يتم الاستعانة بالخرائط التفصيلية في رسم الحدود السياسية في مرحلة ..... ( التعريف - التعيين - إدارة الحد - جميع ما سبق )
- ٥) تعتبر مرحلة التعيين هي المرحلة ..... من مراحل تخطيط الحدود ( الاولى - الثالثة - الرابعة - الثانية )
- ٦) الحدود السياسية ليس لها اساس ..... ( قانوني - جغرافي - سياسي - اقتصادي )
- ٧) الحدود السياسية ما هي الا مجرد ..... ( خطوط - ظاهرة طبيعية - ظاهرة ثابتة - منطقة جغرافية )
- ٨) كانت ..... بمثابة التخوم الفاصلة بين دول قارة أوروبا ( البحار والمحيطات - الجبال والغابات - المحيطات والصحارى - الجبال والبحار )
- ٩) أدى تقسيم الاستعمار لمستعمراته إلى نشأة الكثير من الحدود السياسية خاصة في قارة ..... ( أفريقيا - أوروبا - استراليا - امريكا الشمالية )
- ١٠) مرحلة تشتمل المعاهدة التي توصف الحدود والمناطق التي ستخترقها ..... ( التخطيط - التحديد - التعيين - الادارة )
- ١١) مرحلة يتم فيها وضع الاسلاك الشائكة ..... ( التعريف - الادارة - التعيين - التحديد )
- ١٢) مرحلة يتم فيها المحافظة على الحد الخطى السياسي واستبقاء فاعليته وحراسته ..... ( الادارة - التحديد - التخطيط - التعيين )
- ١٣) الوظيفة الاكثر اهمية للحدود السياسية هي ..... ( الفصل بين الدول - الحماية الاقتصادية - الحماية والامن - القانونية والسياسية )



# الوحدة الثانية

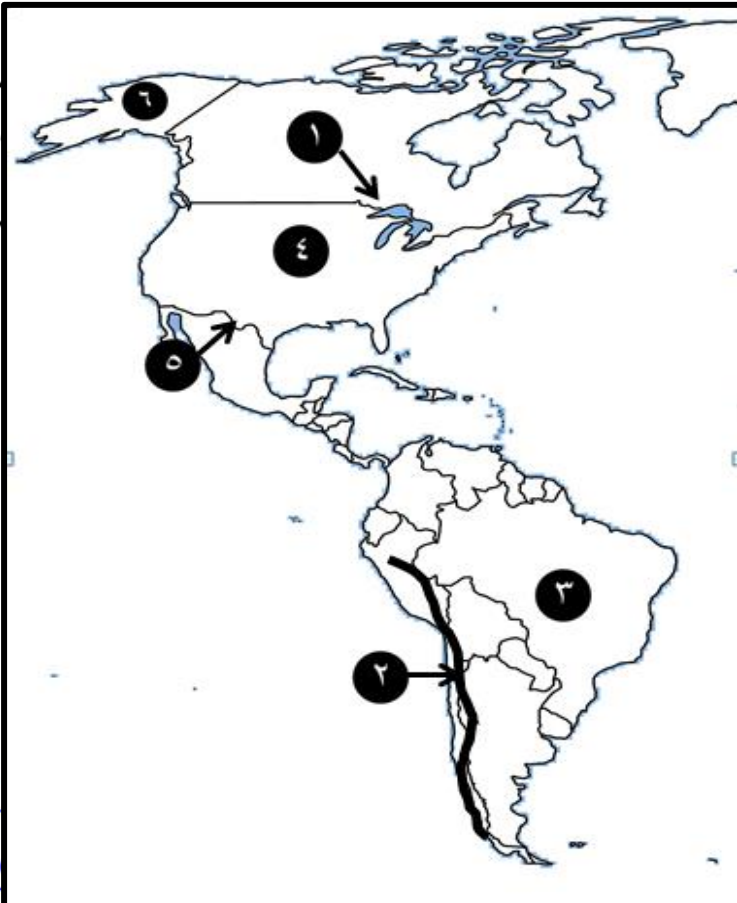
## الدرس الثاني : انواع الحدود السياسية

أمامك خريطة لمصر (ضع المطلوب داخل المستطيل والرمز الدال عليه على الخريطة)



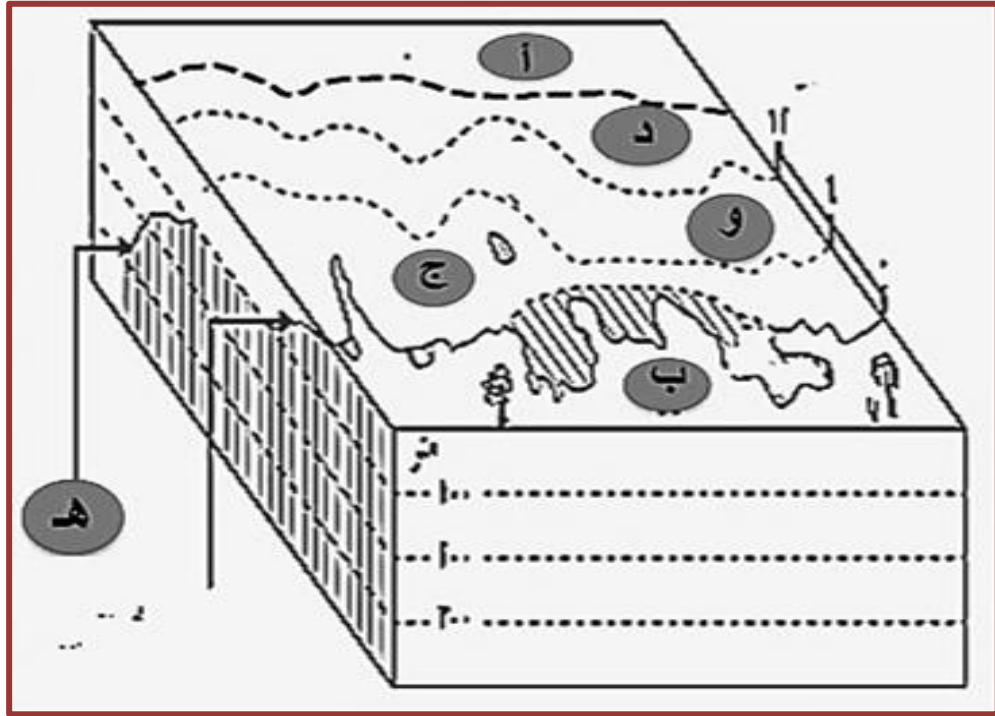
١	حد هندسي (٢٥)
٢	حد طبيعي
٣	دولة مجاورة لمصر جنوباً
٤	دائرة عرض رئيسية
٥	حد هندسي ٢٢
٦	ممر استراتيجي
٧	حدد شكل الدولة التي أمامك

أمامك خريطة للأمريكتين حدد عليها مدلول الأرقام الموقعة عليها



١	:- حدود بحيرية
٢	:- حد طبيعي
٣	:- دولة فيدرالية
٤	:- دولة
٥	:- حد نهري
٦	:- ولاية
	حدد نوع الدولة في رقم (٤)

الشكل الذي أمامك يمثل المناطق المائية في العالم اجب عما تراه



- ١- المياه  
ب- المياه  
ج- المياه  
د- المياه  
و- المياه  
هـ- نطاق

س :- ما الفرق بين المنطقة (ج) و(و)

١/ رافت عبدالعال عبدالرحمن  
محمول / ٠١٩٣٧٣٠٨٨٦

س :- وضع لماذا تتدعى بعض الدول سيادتها على المنطقة (د)

س :- وضع لماذا ازادت اهمية المنطقة (هـ) في السنوات الاخيرة

س :- وضع لماذا تعد المنطقة (أ) مشاع جميع

س :- وضع لماذا السيادة مشروطة في المنطقة (و)

## ما المقصود بالمفاهيم الجغرافية التالية

الحدود الطبيعية	هي التي تتم رسمها على أساس ظاهرات طبيعية واضحة مثل: الجبال والانهار والبحار والبحيرات والممرات الملاحية والخلجان
الحد البحري	يتم تحد الحد البحري عند الحافة البحرية للمياه للإقليمية
المياه الداخلية	تضم كل الاشكال المائية المتصلة بالبحر وتقع فوق يابس الدولة وتشمل البحيرات الساحلية ومصبات الانهار والخلجان محدودة المساحة
المياه الإقليمية	تضم المياه الإقليمية النطاق البحري الممتد من خط الساحل وتحدد حافته الخارجية من جهة البحر الحد السياسي البحري للدولة تمارس الدولة سيادتها المطلقة عليه في الصيد والتجارة واستخراج الثروات
المياه التكميلية او الملاصقة	تمتد من نهاية المياه الإقليمية للدولة الساحلية إلى مسافة لا تزيد عن ١٢ ميلاً بحرياً تمارس الدولة في هذه المياه سلطات جمركية واجراءات خاصة بالرقابة والاشراف الضروريين لتحقيق الامن والسلامة لها للمحافظة على مصالحها الحيوية
المياه الخائفة	هي منطقة تلي منطقة المياه التكميلية تجاه البحر، وتدعى بعض الدول سيادتها عليها، وتمنع الدولة ممارسة العمليات العسكرية الأجنبية فيها
المياه الدولية اعالي البحار	هي عبارة عن المناطق البحرية المفتوحة للجميع بدون قيود والتي لا تدعى دولة ملكيتها اي مشاع للبشرية لا يحق لأي دولة ان تتدخل في حرية الملاحة فيها لأنها مشاع للبشرية
الرصيف القارى	امتداد لليابس تحت مياه البحر، ويمتد من خط الساحل حتى عمق 100 اقامة، وللدولة حق استكشاف الموارد الاقتصادية المائية أو النفطية بل والغازية فيها
الحدود الهندسية	حدود تظهر في صور واشكال مختلفة إما فلكية او خطوط مستقيمة أو على شكل ابعاد متساوية من البحار والجبال
الحدود الاثنوغرافية (الحضارية)	الحدود التي ترتبط بالظاهرات البشرية مثل اللغة والدين

## بم تفسر

- بم تفسر // تتميز الحدود الجبلية بالعديد من المميزات
  - بم تفسر // تعتبر الحدود الجبلية افضل أنواع الحدود
  - بم تفسر // تعتبر الجبال بمثابة خطوط دفاعية
  - بم تفسر // تعد الحدود الجبلية اكثر مناعة طبيعية من المستنقعات
- ما النتائج / ماذا يحدث اذا ← استخدام الجبال كحدود بين الدول دور اول ٢٠١٢

الحدود الجبلية افضل انواع الحدود لانها

- ☆ ظاهرة دائمة ومرئية وعريضة وعرة و قليلة السكان. يقتصر عبورها علي ممرات معينة
- ☆ خطوط دفاعية تستغلها الدول في إقامة التحصينات للدفاع عن نفسها ضد أي غزو

**تدعي بعض الدول القوية سيادتها على مناطق وسط المحيط (المياه المحايدة) لتحقيق اهداف خاصة  
بم تفسر / قيام بعض الدول بتحديد مناطق لها في وسط المحيط  
ما النتائج المترتبة / رغبة بعض الدول في مد حدود مياهها الإقليمية**

- ☆ المياه المحايدة ت هي منطقة تلي منطقة المياه التكميلية تجاه البحر، وتدعي بعض الدول سيادتها عليها، وتمنع الدولة ممارسة العمليات العسكرية الأجنبية فيها
- ☆ قد حدد بعض الدول القوية لنفسها مناطق وسط المحيط لتجرى فيها تجاربها النووية والصاروخية
- ☆ الاعتراف بالدولة التي تدعي هذا الحق يعتمد على قوه

**بم تفسر // تتميز الحدود النهرية بالعديد من المميزات والعيوب (سلاح ذو حدين  
ماذا يحدث اذا / كانت ضفاف نهر ريو جراند بين المكسيك والولايات المتحدة ثابتة**

### عيوبها

### مميزاتها

- |  |   |
|--|---|
| ١. وضوحها في الطبيعة   | ١. الانهار غير مستقرة حيث تغير مجاريها لذلك لان ضفافها غير ثابتة بسبب الفيضان والنحت والارساب   |
| ٢. تمثل خط دفاعي ومانعا مائيا يصعب علي الجيوش الغازية عبورها | ٢. مثل نهر ريو جراند الذي تسير معه الحدود بين الولايات المتحدة والمكسيك الذي غير مجراه فتحولت منطقة بانكو بعد عام ١٨٩٨م من تبعية الولايات المتحدة الى المكسيك |
|  | ٣. وجود جزر في مجرى النهر قد يعوق تحديد الحد السياسي  |

**بم تفسر / الحدود السياسية في اوربا تعد رمزا للمظاهر الاثنوغرافية  
ما العلاقة بين الخصائص الاثنوغرافية والحدود السياسية في اوربا  
ما النتائج المترتبة على استخدام اللغة في رسم الحدود لمنطقة وسط اوربا**

☆ لان الحدود السياسية في وسط اوربا تم استخدام اللغة في ترسيمها بعد الحرب العالمية الأولى  
لمشكلة الأقليات  
محمول / ٠١٩٣٧٣٠٨٨٦

## دليل / صحة العبارات التالية

**دليل :- عدم صلاحية الانهار كحدود سياسية أحيانا  
بم تفسر / تغير تبعية نهر بانكو من الولايات المتحدة الى المكسيك ١٨٩٨  
ما النتائج المترتبة / تغير ضفاف نهر الريو جراند بين الولايات المتحدة و المكسيك  
يترتب على اتخاذ الانهار كحدود سياسية دولية كثير من المشكلات  
برهن / تلعب الانهار كحدود سياسية طبيعية دورا في زيادة ونقص مساحة الدول**

- ١. الانهار غير مستقرة حيث تغير مجاريها لذلك لان ضفافها غير ثابتة بسبب الفيضان والنحت والارساب
- مثل نهر ريو جراند الذي تسير معه الحدود بين الولايات المتحدة والمكسيك الذي غير مجراه فتحولت منطقة بانكو بعد عام ١٨٩٨م من تبعية الولايات المتحدة الى المكسيك
- ٢. وجود جزر في مجرى النهر قد يعوق تحديد الحد السياسي

**دليل / وظيفة الحد المائي لا يقل أهمية عن وخطورة بالنسبة للدول عن حدها البري  
دليل / الحد البحري يقوم بمجموعة من الوظائف للدولة**





**بم تفسر / أهمية تحديد الحدود السياسية البحرية والمياه الإقليمية  
زاد أهمية المياه المحايدة والأرصعة القارية لبعض دول العالم في السنوات الأخيرة  
ما نتائج / اكتشاف ثروات طبيعية مهمة تحت قاع المسطحات المائية قرب سواحل الدول**

**أ: الحد البحري يقوم بمجموعة من الوظائف للدولة وهي**

- ☆ حماية حدودها البحرية من السفن المشبوهة
  - ☆ يحمي اقتصاد الدولة من خلال منع تهريب البضائع المختلفة إليها
  - ☆ يضمن للدول حقوقا مختلفة منها ما هو اقتصادي ثروات ومصايد طبيعية أو عسكري .
  - ☆ وقاية الدولة من أي أوبئة أو أمراض حيث تخضع للتفتيش الصحي بمجرد دخولها المياه الإقليمية للدولة
- ب:- النزاع على الحد البحري-** يكون مع كل دول العالم وليس دولة واحدة لذلك يجب تحديده بدقة
- ج:- زادت أهمية المياه المحايدة والأرصعة القارية لبعض دول العالم في السنوات الأخيرة**  
بسبب اكتشاف العديد من الثروات المائية مثل مصايد الأسماك أو الثروات المدفونة في قاع مثل البترول والغاز الطبيعي

**تظهر الحدود الهندسية في أشكال مختلفة ؟**

**صح ام خطأ مع ذلك السبب (الحدود الهندسية لها شكل واحد مميز) خطأ**

- ١:- حدود فلكية بجهة تتفق مع خطوط الطول ودوائر العرض تنتشر هذه الحدود في افريقيا وامريكا الشمالية
- ٢:- خطوط مستقيمة تصل بين نقطتين معلومتين أو مماسات دوائر أو أقواس في دائرة معلوم مركزها ونصف قطرها
- ٣:- حدود على أبعاد متساوية من ساحل أو سلسلة جبلية

**تعد اللغة و الدين من أهم المظاهر الحضارية (الاثنو جرافية) المستخدمة في ترسيم الحدود بين الدول؟  
حدد صحة او خطأ العبارة / رسمت الحدود بين الهند وباكستان على اساس لغوي  
ما نتائج / استخدام اللغة في رسم الحدود لمنطقة وسط اوربا**

**اللغة من أهم المظاهر الحضارية المستخدمة في ترسيم الحدود بين الدول مثال علي ذلك :**

حدود وسط أوربا التي تم استخدام اللغة في ترسيمها بعد الحرب العالمية الأولى هي عمل المشككة الأقليات  
بحيث تتميز كل دولة بلغة خاصة بها .  
الدين :- عنصر حضاري مهم قد يستخدم في تحديد الحدود بين الدول ومثال ذلك الحدود بين الهند وباكستان تم رسمها على أساس ديني

١. ما وجة الشبة والاختلاف بين بحيرة فيكتوريا والبحيرات العظمى كحدود سياسية

٢. س دتل :- تعدد اشكال الحدود السياسية البحرية ؟

٣. اذكر اشكال الحدود السياسية التي تتبع البحيرات بين الدول في اشكال مختلفة

٤. تتاين في طريقة تحديد الحدود السياسية في البحيرات العظمى الامريكية عن بحيرة فيكتوريا

٥. دلل :- قد تسيير الحدود السياسية البحرية وبقالاتفاقيات محددة

**بحيرة فيكتوريا**

**البحيرات العظمى**

كلاهما تستخدم كحدود فاصلة بين الدولة - كلاهما حدود بحيرية

**الشبة**

**الاختلاف**

**تتماشي الحدود البحرية حسب الاتفاقيات**

مثل بحيرة فيكتوريا حيث تقسم علي عدة اقسام غير متساوية بناء علي اقواس الطول ودوائر العرض التي تنتهي بها الحدود على شواطئ البحيرة

**حدود تتفق مع الخط الأوسط للبحيرة:**

مثل الحدود بين كندا والولايات المتحدة التي تتماشي في البحيرات العظمى ( سوويريور - هورن - ايري - انتاريو )



## حدد أي العبارات التالية صحيحة وإيهما خطأ مع ذكر السبب في الحالتين

١	يحق لأي دولة أن تتدخل في حرية الملاحة في المياه الدولية	العبارة خطأ
٢	تعد المياه الداخلية جزء من المياه الإقليمية	العبارة خطأ
٣	٠- الملاحة في المياه التكميلية أو الملاصقة مشروطة (صح) تتطلب الدولة سيادتها الكاملة على المياه التكميلية خطأ	العبارة خطأ
٤	سيادة الدولة على المياه التكميلية مشروطة بأمن وسلامة الدولة المجاورة لها في تلك المياه	العبارة خطأ
٥	تتطلب الدولة سيادتها على المياه الإقليمية كما تتطلب سيادتها على اليابس	العبارة (صح)
٦	حيث تمارس الدولة سيادتها المطلقة على المياه الإقليمية في الصيد والتجارة واستخراج الثروات كما تخضع السفن والأفراد الموجودة داخل المياه الإقليمية لتشريعات وقوانين الدولة	العبارة خطأ
٧	تتماشى الحدود السياسية بين ألمانيا وفرنسا مع أهدى ضفتي نهر الراين	العبارة خطأ
٨	تتماشى الحدود السياسية بين ألمانيا وفرنسا مع عمق الملاحة لنهر الراين تتماشى الحدود السياسية بين بولندا وكلا من دولتي بيلاروسيا وأوكرانيا علي طول بوج Bug مع إحدى ضفتي خط الحدود	العبارة خطأ
٩	حدود مصر السياسية حدود مثالية	العبارة صح
١٠	لأنها تتماشى مع ظواهر طبيعية (البحر المتوسط في الشمال والبحر الأحمر في الشرق والصحاري في الجانب الشرقي والغربي	العبارة صح
١١	قد تفسر الحدود البحرية وفقاً لاتفاقيات محددة	العبارة صح
١٢	كما هو الحال في بحيرة فيكتوريا- حيث تقسم إلى عدة أقسام غير متساوية	العبارة صح
١٣	تمثل بحيرة متشجن حدوداً بحيرية فاصلاً بين الولايات المتحدة الأمريكية وكندا	العبارة خطأ
١٤	لأن بحيرة متشجن تقع بالكامل داخل يابس الولايات المتحدة	العبارة خطأ
١٥	حدود مصر الجنوبية والغربية حدوداً فلكية بعته تبدو الحدود الهندسية واضحة في حدود مصر السياسية	العبارة (صح)
١٦	الحد السياسي الجنوبية بين مصر والسودان الذي يسير مع دائرة عرض ٢٢ شمالاً، الحد السياسي الغربية بين مصر وليبيا الذي يسير مع خط طول ٢٥ شرقاً باستثناء الجزء الشمالي منها	العبارة (صح)
١٧	تتطلب الدول في المياه التكميلية سلطات جمركية والرقابة والإشراف	العبارة صح
١٨	لتحقيق الأمن والسلامة لها للمحافظة على مصالحها الحيوية	العبارة صح
١٩	الحدود الفلكية تتفق مع الخطوط الطول ودوائر العرض وأكثر القارات استخداماً لها آسيا	العبارة خطأ
٢٠	الحدود الفلكية تتفق مع الخطوط الطول ودوائر العرض وأكثر القارات استخداماً لها أفريقيا وأمريكا الشمالية	العبارة خطأ



# قارن بين / ما الفرق

ما الفرق بين الحدود الجبلية والحدود النهرية من الشبة والاختلاف برهن / اختلاف شكل الحدود السياسية على الجبال  
 دليل اتخاذ الحدود السياسية التي تتبع الانهار عدة اشكال .  
 حدة صفة او خطأ العبارة / يسير نهر الزيجراند بأكملة داخل الولايات المتحدة الامريكية  
 الحدود السياسية على الجبال عبارة عن خطوط تمر في هذه المناطق ولها عدة اشكال ؟

أوجه المقارنة	الحدود الجبلية	الحدود النهرية
وجه الشبة	١ . حدود سياسية طيسعية تفصل بين الدول ٢ . ظاهرة دائمة ومرئية ٣ . خطوط دفاعية تستغلها الدول في إقامة التحصينات للدفاع عن نفسها ضد أي غزو	١ . حدود سياسية طيسعية تفصل بين الدول ٢ . وضوحها في الطبيعة ٣ . تمثل خط دفاعي ومانعا مائيا يصعب على الجيوش الغازية عبورها
الاختلاف	يختلف شكلها بين الدول فقد تكون ١ . مع خط تقسيم المياه ٢ . عند اقدام الجبال	تتخذ عدة اشكال منها • خط المنتصف (الوسط) : مثل نهر ريجراند بين الولايات المتحدة والمكسيك • خط العمق الملاحي : مثل الحدود بين فرنسا والمانيا علي طول نهر الراين • احدي ضفتي النهر : حيث يجري النهر بكاملة داخل دولة الجوار دون الاخري مثل خط الحدود بين بولندا وكلا من بيلاروسيا واوكرانيا علي طول بوج Bug رقتت عبدالعال عبدالرحمن محمول / ٠١٩٣٧٣٠٨٨٦

## ما الفرق بين المياه الإقليمية و أعالي البحار (المياه الدولية) بر تفسر أهمية المياه الإقليمية

أعالي البحار (المياه الدولية)	المياه الإقليمية
هي المناطق البحرية المفتوحة للجميع بدون قيود والتي لا تدعى دولة ملكيتها أي مشاع للبشرية .	١ . تضم المياه الإقليمية النطاق البحري الممتد من خط الساحل وتحدد حافته الخارجية من جهة البحر الحد السياسي البحري للدولة ٢ . تمارس الدولة سيادتها المطلقة عليه في الصيد والتجارة واستخراج الثروات بر تفسر أهمية المياه الإقليمية



## ما الفرق بين المياه التكميلية و المياه المحايدة

المياه المحايدة	المياه التكميلية
منطقة تلي منطقة المياه التكميلية تجاه البحر , وتدعى بعض الدول سيادتها عليها وتمنع الدولة ممارسة العمليات العسكرية الاجنبية فيها	١. تمتد من نهاية المياه الإقليمية للدولة الساحلية إلى مسافة محددة في اتجاه البحر ٢. تمارس الدولة في هذه المياه سلطات جمركية وإجراءات خاصة بالرقابة والاشراف , لتحقيق الامن والسلامة لها

## ما الفرق بين المياه الداخلية و المياه الإقليمية من حيث اوجه الشبة والاختلاف

المياه الإقليمية	المياه الداخلية	الشبة
تضم المياه الإقليمية النطاق البحري الممتد من خط الساحل وتحدد حافته الخارجية من جهة البحر الحد السياسي البحري للدولة تمارس الدولة سيادتها المطلقة عليه في الصيد والتجارة واستخراج الثروات	تضم كل الاشكال المائية المتصلة بالبحر وتقع فوق يابس الدولة وتشمل البحيرات الساحلية ومصبات الانهار والخلجان محدودة المساحة	يعد كل منهما جزء من أراضي الدولة وتمارس الدولة عليه سيادتها المطلقة في الصيد والتجارة واستخراج الثروة
الاختلاف		

## قارن بين الحدود الهندسية والحدود الاثوغرافية (الحضارية) برهن / الحدود الهندسية تأخذ تأخذ اشكال متعددة

الحدود الهندسية	الحدود الحضارية (الاثوغرافية)
تأخذ الحدود الهندسية اشكال مختلفة وهي ١:- <u>حدود فلكية</u> بحثة تتفق مع خطوط الطول ودوائر العرض تنتشر هذه الحدود في افريقيا وامريكا الشمالية مثل الحد السياسي بين مصر والسودان الذي يسير مع دائرة عرض ٢٢ شمالا , والحد السياسي بين مصر وليبيا الذي يسير مع خط طول ٢٥ شرقا باستثناء الجزء الشمالي منها ٢:- <u>خطوط مستقيمة</u> تصل بين نقطتين معلومتين أو مماسات دوائر أو أقواس في دائرة معلوم مركزها ونصف قطرها ٣:- <u>حدود علي أبعاد متساوية</u> من ساحل أو سلسلة جبلية	هي حدود ترسم وفقا لخصائص السكان واللغة والدين اللغة من أهم المظاهر الحضارية المستخدمة في ترسيم الحدود بين الدول مثال علي ذلك حدود وسط أوروبا التي تم استخدام اللغة في الرخصن ترسيمها بعد الحرب العالمية الأولى منها اشكالها الأقلية بحيث تتميز كل دولة بلغة خاصة بها . الدين :- عنصر حضاري مهم قد يستخدم في تحديد الحدود بين الدول ومثال ذلك الحدود بين الهند وباكستان تم رسمها على أساس ديني

## ما الفرق بين الحدود الهندسية والحدود البحرية

الحدود الهندسية	والحدود البحرية
تأخذ الحدود الهندسية اشكال مختلفة - حدود فلكية - - خطوط مستقيمة - حدود علي أبعاد متساوية	يتم تحديد الحد السياسي البحري للدولة عند الحافة الخارجية للمياه الإقليمية اشكالها و انواعها المياه الداخلية - المياه الإقليمية - المياه التكميلية - المياه المحايدة - أعالي البحار - الرصيف القاري

# قارن بين الحدود السياسي بين الولايات المتحدة والمكسيك والحد السياسي بين فرنسا والمانيا من حيث وجة الشبة والاختلاف

الحدود السياسي بين الولايات المتحدة والمكسيك	الحد السياسي بين فرنسا والمانيا
شبة	حدود طبيعية نهريّة
الاختلاف	يتمثل في نهر الراين الذي يتخذ شكل خط المنتصف (الوسط)
	يتمثل في نهر لراين الذي يتخذ شكل خط عمق الملاحي

## اختر الاجابة الصحيحة مما بين القواسم

١. من أهم أنواع الحدود الطبيعية ..... ( الجبال - الانهار - البحيرات - كل ما سبق )
٢. الحدود الحضارية تتم وفقاً ..... ( العادات - التقاليد - اللغات - مستوى التقدم الاقتصادي )
٣. الحدود بين الأرجنتين وشيلي مع جبال ..... ( الأبالاش - الأنديز - جيانا - الروكي )
٤. الحدود بين أمريكا والمكسيك مع نهر ..... ( ريو جراند - المسيسيبي - لابلاتا - سانت لورانس )
٥. الحدود بين بولندا وكلا من أوكرانيا وبيلاروسيا على طول نهر ( الراين - الجارون - السين - بوج )
٦. الحدود الجنوبية لمصر تتفق مع دائرة ... ( ٢٢ شمالاً - مدار السرطان - ٢٥ شمالاً - مدار الجدى )
٧. الحدود بين مصر وليبيا ..... ( هندسية - فلكية - مع خطوط الطول - كل ما سبق )
٨. غالباً ما تمتد هذه الحدود الهندسية في مناطق ( غير أهلة بالسكان - أهلة بالسكان - جبلية - نهريّة )
٩. من أشهر الحدود التي جرى رسمها على اساس اللغة بعد الحرب العالمية الاولى منعاً لمشكلة الاقليات منطقة وسط ..... ( أوروبا - افريقيا - استراليا - اسيا )
١٠. الحدود ..... التي تكون على اساس طبيعي واضح وهي اقوى الحدود ( الهندسية - الحضارية - التالية الطبيعية )
١١. تعتبر الحدود ..... خطوط دفاعية تستغلها الدول لاقامه تحصينات عليها والدفاع عن نفسها ضد اى غزو خارجي ( النهريّة - البحرية - البحرية - الجبلية )
١٢. يعتبر امتداد الحدود مع خط تقسيم المياه شكل الحدود السياسية على / رافقت غبذالغزال عبدالرحمن محمود / ٠١٩٣٧٣٠٨٨٦  
( الانهار - البحار - الجبال - البحيرات )
١٣. الحدود السياسية بين دولتي ..... على جبال البرانس هي حدود طبيعية جبلية ( المانيا وفرنسا - المانيا والبرتغال - اسبانيا ومانيا - فرنسا واسبانيا )
١٤. الحدود السياسية بين الولايات المتحدة وكندا على نهر الريوجراند تاخذ شكل ..... ( خط العمق الملاحي - منطقة السهل الفيضي - خط المنتصف - احدى ضفتي النهر )
١٥. الحدود بحريه في البحيرات العظمى بين دولتي ..... ( الولايات المتحدة والمكسيك - الولايات المتحدة وكندا - المكسيك وكندا - كوبا والمكسيك )
١٦. تضم ..... كل الاشكال المائية المتصلة بالبحر وتقع فوق يابس الدولة وتشمل البحيرات الساحلية ومصبات الانهار والخلجان ( المياه الاقليمية - المياه الداخلية - المياه التكميلية - المياه المحايدة )
١٧. تعتبر ..... نطاق تمتد من المياه البحرية تحد حافته الخارجية من جهة البحر الحد السياسي البحري للدولة ( المياه التكميلية - المياه المحايدة - المياه الاقليمية - المياه الداخلية )
١٨. المياه ..... تمتد من نهاية المياه الاقليمية للدولة الساحلية الى مسافة محددة في اتجاه البحر ( الدولية - المحايدة - الملاصقة - الداخلية )
١٩. منطقة المياه المحايدة تلي منطقة ..... ( المياه الداخلية - المياه الدولية - المياه الاقليمية - المياه التكميلية تجاه البحر )

# الوحدة الثانية الدرس الثالث : تطور خريطة العالم السياسية

## أمامك خريطة صماء لشبه جزيرة الهند اكتب ما تدل عليه الأرقام

أمامك خريطة صماء للهند والدول المجاورة لها - اكتب مدلول الحروف الموقعة عليها -

أ- دائرة عرض رئيسية :  
 ب- مشكلة سياسية :  
 ج- دولة فيدرالية :  
 د- دولة :  
 هـ- دولة متدمجة ذات بروز :

## أمامك خريطة لدولة المغرب اكتب ما تدل عليه الأرقام



1.	مدينة
2.	مدينة
3.	دولة
4.	دولة تقع شمال المغرب
5.	مسطح يقع شرق المغرب
6.	مسطح يقع غرب المغرب
7.	مضيق دولي بين المغرب واسبانيا
	حدد نوع المشكلة في الخريطة

# بم تفسر

**بم تفسر / أهمية إقليم كشمير أيام الاحتلال البريطاني .**

كانت مكانا مناسباً لقضاء اجازتهم الصيفية هروبا من شدة الحرارة وغزارة الامطار في الهند تغطي مساحة كبيرة من كشمير بالغابات الطبيعية تتمتع بمناظرها الجميلة التي تجذب اليها السياحة

**بم تفسر / تصاعد مشكلتي سبته ومليلة عام ١٩٨٥م ؟**

**بم تفسر / تفاقم مشكلتي سبته ومليلة اعتبارا ١٩٨٥**

بسبب ظهور مشكلتان داخل سبته ومليلة وهما

**المشكلة الاولى:** محاولة السكان الاسبان الحصول على الحكم الذاتي

**المشكلة الثانية:** اصدار اسبانيا قانون يلزم الاجانب في اسبانيا بالحصول على اذن اقامة يجدد كل

خمس سنوات في الوقت الذي يعتبر الاسبان السكان المغاربة في سبته ومليلة اجانب بينما يعتبر

المغاربة انفسهم السكان الاصليون

**بم تفسر / النزاعات السياسية المترتبة على حركة القبائل الرعوية عبر الحدود**

١. تقلصت المراعي ومع زيادة عدد السكان حولت معظم المدن الأراضي الرعوية الي مناطق

زراعية فحدثت المشاكل بين الرعاة والمزارعين في إفريقيا.

٢. رسم الحدود السياسية في إقليم السافانا الإفريقية بين دول الإقليم دون مراعاة للقبائل

وتوزيعهم مكانياً

٣. نتج عن ذلك العديد من المشاكل مثل ما يحدث غرب السودان وبين شمال السودان وجنوبه.

٤. تحصيل الضرائب والرسوم من الرعاة الناتج عن ترسيم الحدود السياسية.

٥. التغيرات المناخية التي شهدتها دول غرب إفريقيا خصوصاً نتج عن ذلك مشكلات في مناطق

الرعي

٦. نفوق ملايين الحيوانات ، هجرة السكان مناطق الزراعة، حدوث مشاكل سياسية وهجرة

الرعاة بين الدول

**تعد مدينة سبته ذات موقع استراتيجي هام**

١/ رافت عبدالعال عبدالرحمن

حيث تقع في مواجهة جبل طارق مباشرة على الجانب الآخر من المطبق. حيث يبعد عن جبل طارق 26 كم

## دل على صحة العبارات التالية

**شهدت خريطة العالم السياسية في مطلع العقد الثاني من الألفية الثالثة العديد من التغيرات**

ضمت خريطة العالم السياسية في مطلع العقد الثاني من الألفية الثالثة أكثر من 200 دولة.

منها 193 دولة على وجه التحديد ذات عضوية كاملة بالأمم المتحدة.

دول أخرى غير كاملة العضوية بالمنظمة الدولية ( فلسطين - دولة الفاتيكان)

**شهدت خريطة العالم السياسية ظاهره الاستقطاب العالمي في النصف الثاني من القرن ٢٠**

**وضح اهم التغيرات التي حدثت في الخريطة السياسية خلال الخمسينات من القرن العشرون**

**ما النتائج المترتبة على السياسية ظهور ظاهره الاستقطاب العالمي في النصف الثاني من القرن ٢٠**

**ما العلاقة بين ظاهرة الاستقطاب العالمي والخريطة السياسية**

**حيث أدت وجود ظاهره الاستقطاب العالمي الى حدوث العديد من التغيرات في الخريطة شملت وجود**





- (١) الكتلة الشيوعية بزعامة الاتحاد السوفيتي ( السابق )
- (٢) الكتلة الرأسمالية بزعامة الولايات المتحدة الأمريكية.
- (٣) مجموعة دول عدم الانحياز والتي تأسست عام ١٩٥٥م ويبلغ عددهم ١١٤ دولة

### شهدت خريطة العالم السياسية تغيرات سريعة اواخر القرن العشرين وضح اهم التغيرات التي حدثت في الخريطة السياسية خلال الخمسينات من القرن العشرين

- (١) انهيار الكتلة الشيوعية وانفراط عقد حلفها العسكري ( حلف وارسو . )
- (٢) تفتت الاتحاد السوفيتي ذاته إلى دول .
- (٣) انفراط عقد دولة يوغوسلافيا واتحاد ألمانيا الشرقية وألمانيا الغربية في دولة واحدة .
- (٤) انتصار الرأسمالية بزعامة الولايات المتحدة .

### هناك العديد من العوامل والتغيرات التي تؤثر على مستقبل خريطة العالم السياسية ؟ وضح اثر العولمة ظهور الشركات متعددة الجنسيات على مستقبل الخريطة السياسية.

- ١ . انتهاء الصراع الأيديولوجي بين الكتلة الشيوعية و الرأسمالية بانتهاء الاتحاد السوفيتي وتفكك حلف وارسو.
- ٢ . العولمة وظهور الشركات متعددة الجنسيات التي أثرت على تطور خريطة العالم وهددت السيادة القومية للدول المختلفة.
- ٣ . البنك الدولي وصندوق النقد الدولي وتدخلاتهما في السياسات الداخلية للدول أثر على استقرارها و سيادتها.
- ٤ . سباق التسلح خاصة في منطقة الشرق الأوسط.
- ٥ . ثورة الاتصالات الحديثة وأثرها في نشر الوعي بين الشعوب والاستقرار السياسي للدول.
- ٦ . مشكلة قضية اللاجئين والهجرة غير الشرعية
- ٧ . الصراع على المياه خاصة في المناطق المهددة في مواردها المائية.

### تعد المشكلات السياسية من اسباب التوتر وعدم الاستقرار بين الدول وضح النتائج المترتبة على / المشكلات الحدودية التي خلقها الاستعمار

- ١) أصبحت تلك الحدود من أسباب التوتر وعدم الاستقرار ، ونشوب الحروب بين الدول
- ٢) عدم تحقيق التعاون بين دول الجوار
- ٣) حرمان المناطق الحدودية التي تمثل مناطق متنازعاً عليها من التنمية والتطوير

### دلل - توجد العديد من الاتفاقيات الخاصة بتنظيم حركة الرعاه على الحدود السياسي وضح / وجه الشبه والاختلاف بين الايكواس واللجنة العربية العليا للتعاون الاقتصادي ما المقصود بالايكواس

- (١) اتفاقية بين موريتانيا والسنغال في أبريل ١٩٨١
- (٢) الاتفاقية بين مجموعة دول غرب إفريقيا (الايكواس) بين ١٦ دولة عام ١٩٩٨
- (٣) اتفاقية بين بور كينا فاسو والنيجر ٢٠٠٣
- (٤) اللجنة العليا للتعاون الاقتصادي بين موريتانيا ومالي.
- (٥) معاهدة ترسيم الحدود السياسية بين المملكة العربية السعودية و جمهورية اليمن على الجانب الحدود

### قدم اقتراحاتك وتوصياتك للمساهمة في حل مشكلة الرعاه بين الحدود السياسية

- ١:- عقد الاتفاقيات بانتقال الرعاه وحيوان الرعي وتحديد حركة الرعاه
- ٢:- تخفيض الضرائب والرسوم على الرعاه
- ٣:- المفاوضات على طول الحدود بالنسبة لزيادة عدد السكان وتأثيرها على حركة الرعاه

## ما العلاقة بين

**الاستعمار ومشكلة كشمير**  
**ما نتائج / تقسيم بريطانيا لشبة القارة الهندية على اساس ديني**  
**بم تفسر :- حدوث مشكلة كشمير**

- (١) عندما قام الاحتلال البريطاني بتقسيم الهند الى قسمين رئيسيين  
 أ. جمهورية الهند وتضم الاغلبية الهندوسية  
 ب. جمهورية باكستان
- (٢) ترك الاستعمار الحرية لكشمير بحيث تستقل او تنضم الى إحدى الدولتين ( الهند أو باكستان )
- (٣) اصبحت الديانة السائدة في كشمير هي الاسلام لكن السلطة الحاكمة كانت هندوسية
- (٤) لم يرغب حاكم كشمير فى الانضمام الى اى من الدولتين في البداية واثرا ان يبقى بعيدا عن الصراع بين الهند وباكستان
- (٥) حدث ثورة داخلية من المسلمين فى كشمير ضد الهندوس اسرعت الهند بالتدخل بجيوشها فى كشمير لمساعدته تدخلت باكستان لمساعدة الشعب

## زيادة السكان ومشكلة الرعاة على الحدود النمو السكاني وحرفة الرعي

نتيجة لزيادة السكانية تقلصت المراعي وتحولت معظم الأراضي الرعوية الى مناطق زراعية فحدثت المشاكل بين الرعاة والمزارعين في إفريقيا

الرائف عبدالعال عبدالرحمن

محمول / ٠١٢٧٣٠٨٨٦

**الاستعمار والمشكلات التي تهدد أمن الاوطان**  
**بم تفسر / أو من وجهة نظرك - ترك الاستعمار العديد من المشكلات المزمنة التي تهدد أمن الاوطان**  
**فى مستعمراته السابقة ؟**  
**ما العلاقة بين الاستعمار والمشكلات الحدودية**

١. مشكلات سياسية (مشكلات الحدود السياسية) سبتة ومليلة - كشمير - النزاعات السياسية الناتجة عن حركة الرعاة على الحدود
٢. مشكلات اقتصادية ذات بعد سياسي (تقسيم المياه - الصراع على الموارد الطبيعية - مصادر الطاقة)
٣. مشكلات اجتماعية ذات بعد سياسي (اقلية - الهجرة الشرعية والغير الشرعية)

## ما العلاقة بين الاستعمار ومشكلة سبتة ومليلة من خلال دراستك وضح / دور اسبانيا فى وجود مشكلة سياسية بالوطن العربي

١. احتلت اسبانيا سبتة عام ١٤١٥ م، ومليلة عام ١٤٩٥ م،
٢. ووقعت المغرب بعد ذلك فريسة للاستعمار الفرنسي وقد استقلت المملكة المغربية عام ١٩٥٦ م
٣. بقيت المدينتان فى يد الإسبان لم يتوقف المغرب عن مطالبته بالمدينتين



موقف الامم المتحدة تم عرض المغرب هذه المشكلة رسمياً على الامم المتحدة باعتبارهما أراضي يجب تصفية الاستعمار منها ولكن اسبانيا رفضت وطالب مجلس الامن من اسبانيا والمغرب تسوية الخلافات عن طريق الحوار

## ما النتائج المترتبة على

**ما النتائج المترتبة على تأثير الحرب العالمية الأولى والثانية على خريطة العالم السياسية ما العلاقة بين . الحرب العالمية الأولى والثانية على خريطة العالم السياسية ماذا يحدث اذا / ظلت خريطة العالم السياسية كما رسمت بعد الحرب العالمية الثانية**

١. اختفت دول وظهرت دول، وعدلت حدود دول
٢. اختفت إمبراطوريات وحل محلها قوى عظمى جديدة مثل ما حدث في ألمانيا والتي انقسمت إلى ألمانيا الشرقية وألمانيا الغربية

**التغيرات المناخية التي شهدتها دول غرب إفريقيا ماذا يحدث اذا / لم تشهد دول غرب إفريقيا عددا من التغيرات المناخية**

نتج عن ذلك أ:- نفوق ملايين الحيوانات ب:- هجرة السكان لمناطق الزراعة تريب على ذلك وجود مشكلات سياسية أساسها حرفة الرعي وهجرة الرعاة

**رسم الحدود السياسية في إقليم السافانا الإفريقية**

رسم الحدود السياسية في إقليم السافانا الإفريقية بين دول الإقليم دون مراعاة للقبائل وتوزيعهم مكانياً نتج عن ذلك العديد من المشاكل مثل ما يحدث غرب السودان وبين شمال السودان وجنوبه

## في ضوء العبارة وضع ما يلي

- "المشكلات السياسية في معظمها أراث للاستعمار" في ضوء هذه العبارة أجب على الآتي
- ١:- ما المقصود بمفهوم المشكلة السياسية
  - ٢:- وضع أسباب تمسك اسبانيا بالسيطرة على مدينتي سبتة ومليلة (أهم حجج اسبانيا)
  - ٣:- وضع أهم مقترحاتك لحل مشكلتي سبتة ومليلة وإقليم كشمير
  - ٤:- قارن بين موقف الامم المتحدة من مشكلة كشمير ومشكلة سبتة ومليلة

- ١:- مفهوم المشكلة السياسية أي تهديد للدولة يمس سيادتها على أراضيها أو يمس استقرار شعبها و تماسكه
- ٢:- أسباب تمسك اسبانيا بالسيطرة على مدينتي سبتة ومليلة
- ١:- التقادم (٢) أن نسبة سكان المدينتين من الإسبان ٦٠٪
- ٣:- كما ان المدينتين غير مسجلتين ضمن الأراضي غير المستقلة لدى الامم المتحدة عام ١٩٤٧م
- ٤:- مقترحاتي لحل مشكلتي سبتة ومليلة

١) يتم ذلك عن اجراء مفاوضات بين الطرفين عن طريق الحوار الإيجابي حافظاً على العلاقات بين الدولتين

٢) دخول عنصر ثالث كوسيط في المفاوضات مقرب من الاطراف

٣) لجنة دولية محايدة واعداد تقارير عن المشكلة على الطبيعية

٤) اذا فشلت المفاوضات يتم عرض القضية الى محكمة العدل الدولية

## مقترحاتي لحل مشكلة كشمير (موقف الأمم المتحدة من حل مشكلة كشمير)

١. وقف اطلاق النار و تجريد كشمير من السلاح
٢. سحب القوات المتحاربة الى مواقعها قبل بدء القتال
٣. اجراء استفتاء محايد تحت اشراف الامم لتقرير المصير على اساس اما الاستقلال عن الدولتين او الانضمام لاحدهما

## قارن بين موقف الأمم المتحدة من مشكلة كشمير ومشكلة سبتة ومليلية ما النتائج المترتبة على تدخل الأمم المتحدة في النزاع بين الهند وباكستان في كشمير

### موقف الأمم المتحدة من مشكلة سبتة ومليلية

تم عرض المغرب هذه المشكلة رسمياً على الأمم المتحدة باعتبارها أراضي يجب تصفية الاستعمار منها ولكن اسبانيا رفضت وطالب مجلس الامن من اسبانيا والمغرب تسوية الخلافات عن طريق الحوار

### موقف الأمم المتحدة من مشكلة كشمير

#### أولاً: -تدخل الأمم المتحدة في النزاع بين الهند وباكستان في كشمير

تدخلت الأمم المتحدة في النزاع بين الهند وباكستان وتقسيم كشمير على أساس خط اطلاق النار نتج عن ذلك الى تقسيم كشمير الى قسمين احدهما تحت الإدارة الهندية ويضم ثلثي كشمير معظم سكان كشمير وثلث لدولة باكستان

#### ثانياً: -مقترحات الأمم المتحدة

١. وقف اطلاق النار و تجريد كشمير من السلاح
٢. سحب القوات المتحاربة الى مواقعها قبل بدء القتال
٣. اجراء استفتاء محايد تحت اشراف الامم لتقرير المصير على اساس اما الاستقلال عن الدولتين او الانضمام لاحدهما

١/ رافت عبدالعال عبدالرحمن  
محمول / ٠١٩٣٧٣٠٨٨٦

## أختر الاجابه الصحيحة من بين القواس

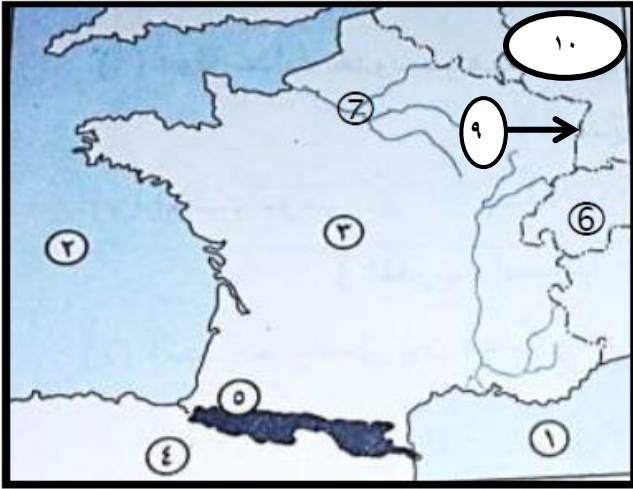
١. ضمت خريطة العالم السياسية في مطلع العقد الثاني من الألفية الثالثة أكثر من ..... دولة ( ٣٠٠ - ٤٠٠ - ٢٠٠ - ١٩٨ )
٢. هناك دول غير كاملة العضوية بالمنظمة الدولية مثل (بريطانيا - فرنسا - ألمانيا - دولة الفاتيكان)
٣. -السمة الأساسية لخريطة العالم السياسية (الثبات - التغير المستمر - كل ما سبق )
٤. من العوامل الجغرافية التي تؤثر على مستقبل خريطة العالم السياسية (العولمة - البنك الدولي - مشكلة اللاجئين - كل ما سبق)
٥. مدينتي سبتة ومليلية تابعتين اليوم الى دولة ..... (فرنسا - امريكا - اسبانيا - بريطانيا)
٦. الديانة السائدة في كشمير هي ..... (الهندوسية - الاسلام - المسيحية - البوذية)
٧. السلطة الحاكمة في كشمير ..... (الهندوسية - الاسلام - المسيحية - البوذية)
٨. الكتلة الرأسمالية بزعامة الولايات المتحدة ظهرت في بداية الخمسينات يقابلها القوة الشيوعية بقيادة (الصين - الاتحاد السوفيتي - روسيا - ايران)
٩. احتلت ..... سبتة عام ١٤١٥ ومليلية ١٤٩٥ (فرنسا - بريطانيا - ايطاليا - اسبانيا)
١٠. أهم المشكلات الحدودية على خريطة العالم السياسية كل ما يلي ما عدا (سبتة ومليلية - كشمير - حركة الرعاة على الحدود - مصادر الطاقة)



# الوحدة الثانية

## الدرس الرابع: الأشكال الاقتصادية ذات البعد السياسي

س : امامك خريطة للعالم وضع ما تدل عليه الارقام :



- ① البحر .....
- ② المحيط .....
- ③ العاصمة ..... ونوعها .....
- ④ دولة .....
- ⑤ جبال .....
- ⑥ دولة متعددة اللغات .....
- ⑦ نهر .....
- ⑧ دولة .....
- ⑨: حد طبيعي .....
- ⑩: دولة .....

س : امامك خريطة لدولة تونس وضع عليها ما تدل عليه الارقام :



- ① البحر .....
- ② البحر .....
- ③ دولة .....
- ④ دولة .....
- ⑤ دولة .....
- ⑥ مضيق .....
- ⑦ جزيرة .....
- ⑧ جزيرة .....

## يعم تفسر

تعد مشكلتا المياه والطاقة، فهما من أهم المشكلات الاقتصادية

تعد مشكلتا المياه والطاقة، فهما من أهم المشكلات الاقتصادية ذات البعد السياسي، لان لهما أثراً بالغاً على السلوك السياسي للدول

لا يساهم الفحم في التجارة الدولية سوى بنحو ١٠٪ من جملة إنتاجه .

دليل / يختلف الأثر السياسي لكل من الفحم والبتروول في الخريطة السياسية

ما النتائج المترتبة على / إنتاج الدول المتقدمة للفحم (بالنسبة للأثر السياسي للفحم)

من وجهة نظرك / لماذا تعد ازمة الطاقة ازمة بتروول في المقام الاول وليست ازمة فحم

سلسلة الابداع

01093730886

اثر الفحم محدود :- لان الدول المتقدمة هي المستهلك الأكبر للطاقة وهي في نفس الوقت المنتج الأول للفحم ولذلك لا يدخل منه في التجارة الدولية سوى ١٠٪ فقط ومن ثم فإن أثره السياسي محدود

اثر البترول والغاز الطبيعي كبير :- يسهمان بنحو ثلثي انتاج الطاقة في العالم يسهمان بحوالي نصف التجارة الدولية خاصة من دول العالم الثالث في الشرق الاوسط والخليج العربي

**النزاع الليبي التونسي عند تحديد الرصيف القاري بينهما**  
**ماذا يحدث اذا / لم يظهر البترول والغاز الطبيعي في مياه الرصيف البحري الليبي**  
**ماذا يحدث اذا / اتجه الحد البحري في ليبيا في الشمال مباشرة في الرصيف القاري الليبي**

النزاع القائم بين ليبيا وتونس عند تحديد الرصيف البحري بين الدولتين بعد ظهور حقول الغاز والبترول. يتمثل طالبت ليبيا:— أن يتجه الحد البحري إلى الشمال مباشرة في مياه هذا الرصيف. طالبت تونس:— بحد بحري ينحرف شرقاً بزاوية مقدارها ٤٥ درجة تقريباً.

**هناك عدة عوامل تساعد على ظهور مشكلة المياه بين الدول**  
**بم تفسر تواجه الكثير من الدول مشكلات المياه ؟**  
**بم تفسر / حدوث مشكلات المياه بين الدول دور اول ٢٠١٧**  
**ما رايك في العبارة التالية / مشكلة المياه من اهم المشكلات الاقتصادية**

لأنها لها أثراً بالغاً على السلوك السياسي للدول تظهر في حالتين  
١. عند تحديد المياه الإقليمية والدولية بين الدول على البحار والمحيطات.  
٢. عند الاستفادة من مياه النهر الدولي وتقسيمها بين الدول التي تشترك فيه

**تعدد اسباب النزاع على الانهار الدولية**  
**برهن على صحة العبارة :- يتمثل النزاع على الانهار الدولية بين الدول في عدة حقوق**

محمول / ٠١٩٣٧٣٠٨٨٦

:- يتمثل النزاع على الانهار الدولية بين الدول في عدة حقوق

١. حق الملاحة
٢. حق توزيع المياه او اقتسام مياه النهر
٣. حق صيد الاسماك
٤. حق توليد الكهرباء على طول المجرى

**يواجه العالم اليوم مشكلات اقتصادية جمة؟**

يواجه العالم اليوم مشكلات اقتصادية جمة: الفقر والجوع والجفاف والمياه والطاقة والتخلف في بعض الأقطار الآسيوية والأفريقية وأمريكا اللاتينية .

**اهمية معاهدة برشلونة وباريس بخصوص الانهار الدولية**  
**ماذا يحدث اذا / لم تظهر العديد من الاتفاقيات الدولية بشأن تنظيم الملاحة في الانهار**  
**ما نتائج / وجود اتفاقيات ومعاهدات بين الدول من أجل استغلال الانهار الدولية**

الاتفاق كلاهما حرية الملاحة في الأنهار الدولية بالأجزاء الصالحة منه للملاحة

سلسلة الإبداع

# ماذا يحدث اذا

## ماذا يحدث اذا :- تعاون دول العالم من اجل مواجهة المشكلات الاقتصادية

سوف يتم حل جميع المشكلات الاقتصادية التي يعاني منها العالم وخاصة دول العالم النامي ودول امريكا اللاتينية مثل الفقر والجوع والجفاف والمياه والطاقة والتخلف

## ماذا يحدث اذا :- توزعت الموارد الطبيعية موزعة بالانتظام على دول العالم

١. لم تحدث صراعات بين دول العالم للحصول على الموارد الطبيعية
٢. لم تتأثر العلاقات بين دول العالم بسبب مصادر الطاقة
٣. لم يحدث الصراع في الشرق الاوسط

## ما الفرق بين

الانهار الدولية	الانهار المحلية
<p>أ:- هي الأنهار التي تجرى عبر الحدود السياسية لعدد من الدول مثل نهر النيل .</p> <p>ب:- هي الأنهار قد تفصل بين الدول، ويتم اتخاذها كحد سياسي بينها ،</p> <p>مثل نهر الراين وهنا يثار النزاع بين الدول على ترسيم خط الحدود السياسية مع إحدى ضفتي النهر أو مع اقتسام سطح المجرى أو قاعه</p>	<p>هو النهر الذي يجري من منبعه إلى مصبه في دولة أو داخل الحدود السياسية لدولة واحدة. لذلك لا تظهر مشكلة سياسية داخلية خاصة</p> <p>• <u>أمثلة</u> ---</p> <p>نهر السين في فرنسا</p>

## دل على صحة العبارات التالية

**دليل / توجد مؤسسات دولية تهتم بالتعاون الدولي لمواجهة المشكلات الاقتصادية**  
**حدد المنظمات الدولية المهتمة بالتعاون الدولي لمواجهة المشكلات الاقتصادية ودور كل منهما**  
**حدد مهام المنظمات والهيئات التالية :**  
**البنك الدولي للإنشاء والتعمير - مركز التجارة الدولي - منظمة الأمم المتحدة للتنمية الصناعية - منظمة الأغذية والزراعة الدولية FAO - صندوق النقد الدولي**

منظمة الأمم المتحدة: من خلال برنامج الأمم المتحدة للتنمية.  
صندوق النقد الدولي: وهو عبارة عن المؤسسة نقدية دولية بهدف تنظيم القضايا النقدية الدولية  
البنك الدولي للإنشاء والتعمير: بهدف مساعدة الدول علي تمويل استثماراتها لأغراض إنتاجية .  
مركز التجارة الدولي: أحد الأجهزة التابعة للأمم المتحدة ، ويهدف إلي تطوير التعاون الدولي .  
منظمة الأمم المتحدة للتنمية الصناعية تركز جهودها للتنمية الصناعية في الدول النامية  
منظمة الأغذية والزراعة الدولية FAO: تهدف إلي رفع مستوي التغذية وتحسين كفاءة الإنتاج  
والعناية بالريف بصفة خاصة

سلسلة الإبداع

# ما العلاقة بين

مع العلاقة بين مصادر الطاقة والصراعات الدولية

دليل / لعبت مصادر الطاقة دوراً بارزاً في الصراعات الدولية .

دليل // كان للبتترول دوراً واضحاً في مسار الحرب العالمية الثانية .

وضح دور البترول في تغير مسار الحرب العالمية الثانية دور اول ٢٠١٧ ازهر

دليل :- موارد الطاقة من أهم الموارد التي يدور حولها الصراع دور اول ث ٢٠١٧

١ . لعبت دوراً بارزاً في الصراعات الدولية خاصة منذ الحرب العالمية الثانية بين ألمانيا من ناحية والحلفاء من ناحية أخرى.

٢ . لعب البترول دوراً في مسار الحرب وفي اتجاه القوات المتصارعة نحو السيطرة على منابعه حيث اندفعت الجيوش الألمانية نحو القوقاز آملاً في الحصول على بترول تلك البلاد.

ما العلاقة بين البترول والعلاقات الدولية

ما العلاقة بين البترول والصراع في الشرق الأوسط

بم تفسر : --- أزمة الطاقة هي أزمة بترول في المقام الأول ؟

أزمة الطاقة هي أزمة بترول في المقام الأول وظهرت آثاره الدولية في مجالين رئيسيين للعلاقات الدولية هما

١) العلاقات الدولية بين الدول الغربية وبعضها.

٢) العلاقات بين الدول الغربية والدول النامية.

حيث رفعت مصادر الطاقة خاصة البترول والغاز الطبيعي من شأن دول العالم الثالث فالصراع العالمي على وراء الكثير من الأزمات الدولية والمواقف السياسية للدول على المسرح العالمي. ليس أدل على ذلك من الصراع في منطقة الشرق الأوسط وعليه

## أى العبارات التالية صحيحة وأيها خطأ مع ذكر السبب

١/ رافت عبدالعال عبدالرحمن

(خطأ) حمول / ٠١٩٣٧٣٠٨٨٦

الموارد الطبيعية موزعة بشكل منتظم على خريطة العالم .

الموارد الطبيعية بطبيعتها غير موزعة بانتظام على خريطة العالم وخاصة الموارد المعدنية وموارد الطاقة حيث : مناطق تتوافر فيها هذه الموارد بكثرة. مناطق تندر فيها الموارد فهي مجال للصراع بين الدول من أجل الحصول على هذه الموارد خاصة الموارد غير المتجددة.

اتجاه الحد السياسي البحري بين ليبيا وتونس بزواية ٢٦ درجة ثم ٥٢ درجة (صح)

يرجع ذلك إلى وجود الجزر التونسية وتغير اتجاه خط الساحل التونسي

حكم محكمة العدل الدولية عام ١٩٨٢ م اضر بمصالح تونس الاقتصادية في مياه الرصيف القاري مع ليبيا (خطأ)

ما النتائج المترتبة على / حكم محكمة العدل الدولية في النزاع بين تونس وليبيا  
ماذا يحدث اذا :- صدر حكم محكمة العدل الدولية بان يسير الحد البحري بين تونس وليبيا شمال الرصيف القاري مباشرة " عكس الاجابة لمصالح ليبيا

لان حكم محكمة العدل الدولية جعل لتونس حقوق اساسية في حقول البترول والغاز الطبيعي





**قارن بين / مهام منظمة الامم المتحدة للتنمية الصناعية ومهام منظمة الامم الأغذية والزراعة الدولية**

<b>مهام منظمة الامم المتحدة للتنمية الصناعية</b>	<b>مهام منظمة الامم الأغذية والزراعة الدولية</b>
تكرس جهودها للتنمية الصناعية في الدول النامية	تهدف الى رفع مستوى التغذية وتحسين كفاءة الإنتاج والعناية بالريف بصفة خاصة

**قارن بين / مهام مركز التجارة الدولي ومهام البنك الدولي للأنتشاء و التعمير**

<b>مهام مركز التجارة الدولي</b>	<b>البنك الدولي للأنتشاء و التعمير</b>
أحد الأجهزة التابعة للأمم المتحدة ويهدف إلى تطوير التعاون الدولي	أنشئ هذا المصرف بهدف مساعدة الدول على تمويل استثماراتها لأغراض إنتاجية

**اختر الاجابة الصحيحة مما بين القوسين :**

- ١ :- يساهم ... بنحو ١٠٪ من التجارة الدولية للطاقة. ( الفحم - البترول - الغاز الطبيعي - اليورانيوم )
- ٢ . يعد نهر .... في فرنسا من أمثلة الأنهار المحلية . ( الراين - الدانوب - السين - المسيسي )
- ٣ . يفصل مضيق هرمز بين ... ..
- ( المغرب و إسبانيا - الصومال و جيبوتي - إيران و عمان - جزيرة سومطرة و سنغافورة )
- ٤ :- يفصل مضيق ..... بين اليمن من ناحية و الصومال و جيبوتي من ناحية أخرى .  
( هرمز - باب المندب - ملقا - جبل طارق )
- ٥ :- يفصل مضيق ..... بين المغرب و إسبانيا . ( هرمز - باب المندب - ملقا - جبل طارق )
- ٦ :- يفصل مضيق ..... بين إيطاليا و تونس . ( هرمز - باب المندب - جبل طارق - صقلية )
- ٧ :- يساهم ... بنحو ٢٦٪ من انتاج الطاقة في العالم . ( البترول - الفحم - الغاز الطبيعي - اليورانيوم )
- ٨ : يساهم كل من ..... و ..... بنحو ثلثي انتاج الطاقة في العالم .  
( البترول و الغاز الطبيعي - البترول و الفحم - البترول و اليورانيوم )
- ٩ :- يساهم كل من ..... و ..... بنحو نصف التجارة الدولية للطاقة .  
( البترول و الفحم - البترول و الغاز الطبيعي - البترول و اليورانيوم )
- ١٠ :- تم توقيع معاهدة باريس عام ١٨٥٦م و اتفاقية برشلونة عام ١٩٢١م و اتفقا على .... في  
الأنهار الدولية خاصة في الأجزاء الصالحة منها .  
( حرية الملاحة - حرية التصدير - توليد الكهرباء - اقتسام المياه )
- ١١ . يعد نهر ..... من أمثلة الأنهار الدولية . ( الكونغو - النيل - المسيسي - السين )

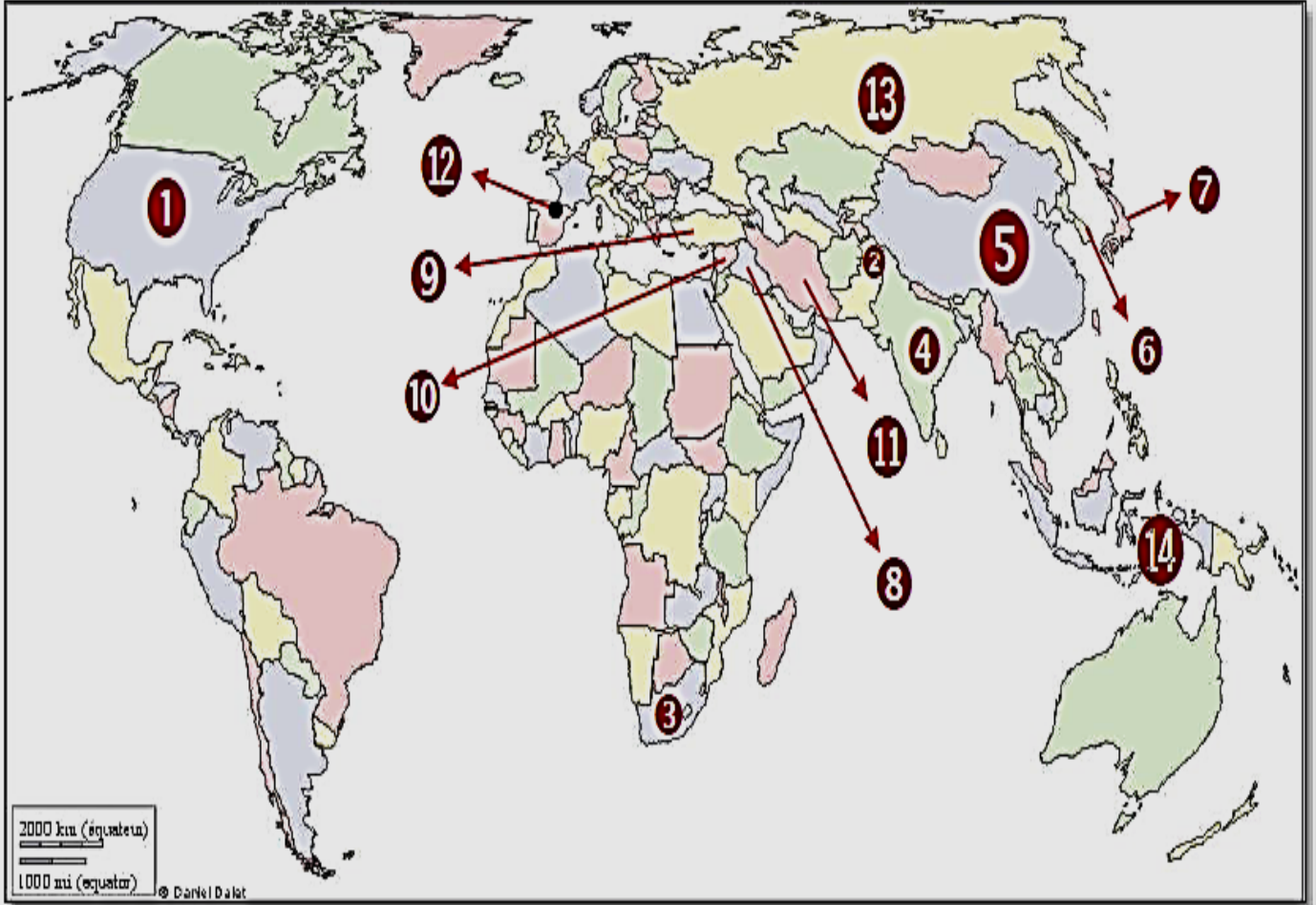


# الوحدة الثانية

## الدرس الخامس : المشكلات الاجتماعية ذات بعد سياسي

### أمامك خريطة العالم اكتب ما تدل عليه الأرقام

س : أمامك خريطة للعالم وضح عليها ما تدل عليه الأرقام :



- |  |  |
|--|--|
| ② مشكلة حدودية سياسية .....              | ① دولة بها تفرقة عنصرية .....            |
| ④ دولة بها اقلية دينية .....             | ③ دولة تختلف فيها التفرقة العنصرية ..... |
| ⑥ دولة بها اقلية دينية .....             | ⑤ دولة بها اقلية دينية .....             |
| ⑧ دولة بها اقلية كردية .....             | ⑦ دولة بها اقلية دينية .....             |
| ⑩ دولة بها اقلية كردية .....             | ⑨ دولة بها اقلية كردية .....             |
| ⑫ اقليم يطالب بالانفصال عن اسبانيا ..... | ⑪ دولة بها اقلية كردية .....             |
| ⑭ دولة بها اقلية .....                   | ⑬ دولة بها اقلية متنوعة .....            |

## ما المقصود بالمفاهيم الجغرافية التالية

مجموعات بشرية قليلة العدد ذات خصائص تختلف عن مثيلاتها في مجتمع الأثرية	الأقليات
مكان عاشت فيه الاقلية داخل الدولة وتشكلت من داخله ملامحها	وطن الاقلية
تعني تعرض الإنسان رغم إرادته للهجرة خارج أو داخل الوطن الذي يأويه	الهجرة اجبارية
انتقال شخص من دولة إلى أخرى من غير المنافذ الرسمية للدول دون اتباع الطرق القانونية التي تنظم انتقال الأشخاص بين الدول	الهجرة الغير شرعية

## بم تفسر

**بم تفسر :- لم يعد هناك شعب واحد ذو سلالة نقية برهن على صحة العبارات الآتية / وجود الأقليات في معظم دول العالم**

☆ بسبب حركة السكان منذ فجر التاريخ عبر الأوطان والأقاليم والقارات ادت اختلاط السكان  
☆ لم يعد هناك شعب نقى ، حيث اكتسب كل شعب دماء جديدة وعناصر جنسية وقومية وثقافية وافدة على هذا الشعب ، وبالتالي تضم غالبية الدول أقليات

**بم تفسر :- حدوث الهجرة الاجبارية  
بم تفسر / تعدد دوافع الهجرة القسرية (الهجرة الاجبارية)  
ما العلاقة بين الصراعات والنزاعات المسلحة والهجرة الاجبارية**

١. حدوث الكوارث الطبيعية كالفيضانات أو الزلازل،
  ٢. دوافع قومية: كتهجير أهالي النوبة من منطقتهم جنوب أسوان الي أماكن أخرى بسبب إنشاء السد العالي.
  ٣. صراعات ونزاعات مسلحة سواء دولية أو محلية ( الحروب الأهلية). الأمر الذي دفع الشعب الي هجرته الي خارج وطنه
- بعض السكان إلى الهجرة القسرية إلى دول الجوار حتى تحريرها وهو ما يطلق عليهم «اللاجئون».
- امثلة ذلك الصراع بين اليهود والفلسطينيين في فلسطين الأمر الذي يترتب عليه تهجير الفلسطينيين قسرا إلى خارج وطنهم

**بم تفسر :- تلجأ بعض الدول للاعتراف بحرية الأقليات في استخدام لغتها القومية  
قارن موقف ايطاليا وموقف العراق من الأقليات اللغوية**

- ⊙ خوفا من مطالبة تلك الأقليات بالاستقلال عن الدولة، كالأكراد في شمال العراق في الوقت الحالى،
- ⊙ لكن بعض الدول تمنع استخدام الأقليات للغاتها كما هو الحال في إيطاليا؛ حيث ترفض استخدام، الأقلية النمساوية للغتها، وتلزمها باستخدام اللغة الإيطالية في جميع مجالات الحياة

**بم تفسر / يعد الهجرة الغير شرعية منبع تهديد للدولة  
ما العلاقة بين الهجرة الغير شرعية والتهديدات الامنية**

- ☆ ١:- يعد منبع تهديد، فهو مرتبط دائما بأشكال مختلفة من الجريمة المنظمة،
- ☆ ٢:- كما تسهل للمنظمات الإجرامية والعصابات المعادية بالتوغل إلى داخل البلاد أو العكس
- ☆ ٣:- بالإضافة لتنامي الصراعات القبلية الطائفية بين المهاجرين

## توثر الهجرة الغير الشرعية سلبيا على الجانب الاجتماعي للمجتمع

- ☆ اختلال في التوازن (السكاني) مهددة بذلك مواطني الدولة أو المنطقة
- ☆ أن تعدد الجنسيات ينتج عنه انتشار بعض العادات المخالفة لقيم المجتمع

## بم تفسر / تعدد الاقليات اللغوية اقل انواع الدول انتشاراً

- ☆ لان تعدد اللغة أهم عناصر تكون القوميات في العالم أى الوعاء الثقافي للأمم، وتحرص كل دولة في العالم أن يسود فيها لغة رسمية واحدة،

## ما النتائج المترتبة على

### ما نتائج / تفكك الاتحاد السوفيتي السابق ويوغسلافيا (بالنسبة للاقليات)

- روسيا الاتحادية:- وداخلها قوميات (أقليات) كانت تشكل الاتحاد السوفيتي السابق ، كما أن باقي الدول التي انفصلت بها أقلية روسية
- يوغسلافيا :- في مقدونيا وصربيا :- أقليات ألبانية. البوسنة والمهرسك بها أقليات صربية و كرواتية

### الاضطهاد السياسي والديني والعنصري الذي يمارس ضد فئة من السكان

- ⊙ الأمر الذي يضطر بعض السكان إلى الهجرة القسرية إلى دول الجوار حتى تحريرها وهو ما يطلق عليهم «اللاجئون
- ⊙ امثلة ذلك الصراع بين اليهود والفلسطينيين في فلسطين الأمر الذي يترتب عليه تهجير الفلسطينيين قسرا إلى خارج وطنهم

### وجود الاقليات في كل من الولايات المتحدة الامريكية ودولة جنوب أفريقيا

- ⊙ ادى الى ظهور مشاكل متعلقة بالأقليات ، وكان أشهرها قضية التفرقة العنصرية والتي تعد من أشنع صور التمييز الذي تتعرض له أقلية
- ⊙ انتهى الوضع بحصول الزوجي كلا من الدولتان على بحقوقهم المدنية وسياسية

### حدوث ظاهرة الهجرة الغير شرعية

### ما النتائج المترتبة على / زيادة أعداد الهجرة الغير شرعية نهاية القرن العشرين

- ارتفاع ظاهرة الهجرة الغير الشرعية في نهاية القرن ٢٠ نتيجة للتدهور الظروف الاقتصادية والاجتماعية والامنية

اصبحت هذه الظاهرة تمثل هاجساً يشغل معظم الدول نظراً للانعكاسات على المجتمع التي تمثل

- ⊙ اقتصاديا:- يؤثر سلبيا على التنمية الاقتصادية تؤدي إلى سوق العمل غير الشرعي مما يؤثر سلبا على الايدي العاملة المحلية
- ⊙ امنى وسياسي:- يعد منبع تهديد، فهو مرتبط دائما بأشكال مختلفة من الجريمة المنظمة
- ⊙ تسهل للمنظمات الإجرامية والعصابات المعادية بالتوغل إلى داخل البلاد أو العكس
- ⊙ اجتماعي:- اختلال في التوازن (السكاني) مهددة بذلك مواطني الدولة أو المنطقة
- ⊙ صحي:- نقل الأوبئة والأمراض الفتاكة سريعة الانتشار مما يشكل تهديدا

### ما النتائج المترتبة على صدور الاعلان العالمي لحقوق الانسان ١٩٤٨

١. اصبح هناك اهتمام بقضية التمييز بين البشر وبحقوق الاقليات المدنية والسياسية والاقتصادية والاجتماعية والثقافية،
٢. عدم قيام الدول بجرمان الاقليات من التمتع بثقافتهم وشعائرهم ولغتهم





**ما بر تفسر / حدوث مشكلة تيمور الشرقية  
النتائج المترتبة على / تمركز سكان تيمور الشرقية في اندونيسيا (او الباسك في اسبانيا)**

بسبب تمركز اقلية من سكان تيمور الشرقية في اندونيسيا في اطراف الدولة نتج ذلك اصبحت تمثل  
خطر على الدولة واستقرارها وزادت مطالبها بالاستقلال عن الدولة

## **دل على صحة العبارات التالية**

**دل :- تهتم كثير من الدول والمنظمات بحقوق الاقليات في العالم  
وضح / كيف اهتمت الدول والمنظمات بحقوق الاقليات في العالم  
وضح الجهات التي تدافع عن حقوق الاقليات**

- ⊙ اهتمت منظمة الأمم المتحدة والإعلان العالمي لحقوق الإنسان بقضية التمييز بين البشر وبحقوقهم المدنية والسياسية والاقتصادية والاجتماعية والثقافية،
- ⊙ يوجد في دستور كل دول العالم به نص يعالج حقوق الأقليات داخل كل دولة ، بعد التمييز بين أفراد الدولة الواحدة على أساس من اللون أو الدين أو اللغة.

**ايد صحة العبارة / مارايك الشخصي : - حدوث الهجرة غير شرعية في السنوات الاخيرة  
حدد صحة او خطأ العبارة (تشهد دول الخليج هجرة غير شرعية في الوقت الحالي)**

- ⊙ :- شهدت ظاهرة الهجرة غير الشرعية ارتفاعا ملحوظا مع نهاية القرن العشرين وأوائل القرن الحادي والعشرين نتيجة تدهور الظروف الاقتصادية والاجتماعية والأمنية مثال
- الهجرة من العالم النامي وخاصة الأفارقة إلى الاتحاد الأوروبي،
- :- هجرة أعداد غفيرة من جنوب شرق آسيا إلى دول الخليج

**دل / يوجد على المسرح السياسي الدولي العديد من الحركات الاجتماعية التي تأخذ أشكالا متعددة  
ما النتائج المترتبة على / ظهور العديد من المشكلات الاجتماعية  
وضح اهم الحركات الاجتماعية على المسرح السياسي الدولي**

- ⊙ ادى ذلك الى ظهور العديد من الحركات القومية الانفصالية ، والحركات المناهضة للتمييز العنصري ، والتي تبحث عن حقوق الأقليات ، والتي تدعو إلى العدالة الاجتماعية وحقوق الإنسان

## **أي العبارات التالية صحيحة وأيها خطأ مع ذكر السبب**

**تعد اللغة من اهم عناصر تكوين القوميات في العالم (العبارة صح)**

أى الوعاء الثقافى للأمم، وتحرص كل دولة فى العالم أن يسود فيها لغة رسمية واحدة،

**يمثل العرق أو السلالة مشكلة سياسية في كل الاحوال  
لا يمثل العرق او السلالة مشكلة سياسية في حد ذاته (العبارة خطأ)**

لا يمثل العرق أو سلالة مشكلة سياسية إلا حينما تظهر مشكلة التمييز العنصري بين أفراد وشعب دولة معينة

**تعد قضية التفرقة العنصرية من أشجع صور التمييز (العبارة صح)**



٥ تعد قضية التفرقة العنصرية من أشنع صور التمييز الذي تتعرض له أقلية بسبب العرق أو اللون أو الدين

## ما العلاقة بين

**ما العلاقة بين التوزيع الجغرافي للأقلية وقوة الدولة**  
**حدد صحة أو خطأ العبارة :- يختلف تأثير الأقلية حسب الانتشار الجغرافي**  
**ماذا يحدث إذا / كانت الأقلية مركزة جغرافيا في مكان ما في الدولة**  
**وضح / كيف يؤثر التوزيع الجغرافي للأقلية على استقرار الدولة**

أقلية مركزة جغرافيا في مكان ما في الدولة

لا سيما لو كان علي أطراف الدولة، هنا تكون مطالبتها خطرا علي استقرار الدولة، خاصة لو كانت هناك قوي مجاورة تشجع هذه الأقلية في مطالبها ،  
مثال ذلك : إلباسك في اسبانيا، سكان تيمور الشرقية في إندونيسيا

الأقلية منتشرة ومبعثرة في أنحاء الدولة

وسط الأغلبية يكون تأثيرها محدودا أو حتى معدوما ، خاصة في حالة مطالبتها بالانفصال عن الدولة الأم.

**س :- ما العلاقة بين وطن الأقلية واستقرار الدولة**  
**ماذا يحدث إذا / كان هناك وطن للأقلية على اطراف الدولة**

٥ تكون الأقلية مثيرة لمشكلات سياسية حال وجود وطن للأقلية عاشت فيه وتشكلت داخله ملامحها خاصة إذا كان هذا الوطن على أطراف الدولة،  
٥ مثال ذلك الأكراد على أطراف الدول التي يتوزعون عليها (إيران والعراق وسوريا وتركيا

**س :- ما علاقة بين الخصائص التي يميز بها الأقلية واستقرار الدولة**  
**ماذا يحدث إذا / كان هناك خصائص تميز الأقلية عن الأغلبية**  
**دلل / قد تؤثر الخصائص القومية للأقلية على التماسك السياسي للدولة**

٥ يقصد بها الصفات الخاصة التي تميز الأقلية عن الأغلبية وقد يكون هذا في اللغة أو الدين أو العرق، وبالطبع

٥ فإن الأقلية تستमित في الدفاع عن هويتها التي تميزها عن الأغلبية خاصة وقت الأزمات، وتكون مطالبها إما الانفصال عن الدولة الأم أو الحصول على حقوق

**س :- ما العلاقة بين حجم الأقلية وقوتها الاقتصادية واستقرار الدولة**  
**ماذا يحدث إذا / كان زاد حجم الأقلية وقوتها الاقتصادية داخل الدولة**

٥ يتوقف أثر المشكلات السياسية التي تثيرها الأقلية على حجمها من مجموع السكان وقوتهم الاقتصادية،

٥ فقد كان البيض في دولة جنوب إفريقيا أقلية، لكنهم يسيطرون على حوالي ثلاثة أرباع اقتصاد الدولة، وما زال جزء كبير من اقتصاد الدولة في أيديهم

**ما العلاقة بين / الهجرة الغير الشرعية والتنمية الاقتصادية**  
**برهن على صحة أو خطأ العبارة (زيادة أعداد المهاجرين غير الشرعيين يؤثر سلباً في اقتصاد الدولة)**

٥ يؤثر سلبيا على التنمية الاقتصادية، حيث أصبحوا يشكلون أيدي عاملة رخيصة



⊙ وجود اعداد من المهاجرين بطريقة غير شرعية و تؤدي إلى سوق العمل غير الشرعي مما يؤثر سلبا على الايدي العاملة المحلية

## ماذا يحدث اذا / لم تهتم الدول والمنظمات بحقوق الاقليات ٢٠١٧ دور اول ماذا يحدث اذا / لم تأخذ الاقلية نفس حقوق الأغلبية

⊙ سوف تزيد مشاكل الاقليات في العالم بأنواعها الدينية واللغوية والعرقية والقومية  
⊙ يودي ذلك الى عدم استقرار الدول

### اختر الاجابة الصحيحة مما بين القوسين :

١. تعتبر الأقليات ..... أقل أنواع الأقليات انتشاراً على مستوي العالم .  
( العرقية - الدينية - القومية - اللغوية )
٢. وجد أقليات ..... داخل تركيا و إيران .  
( صربية - كرواتية - كردية - ألبانية )
٣. تعد الأقليات الروسية نموذج للأقليات .....  
( القومية - الدينية - اللغوية - العرقية )
٤. لا يمثل العرق أو السلالة مشكلة سياسية إلا حينما تظهر مشكلة ....  
( الفقر - المرض - التمييز العنصري - تعدد اللغات )
٥. يتوقف أثر القلاقل السياسية التي تثيرها الأقلية على ...  
( توزيعهم الجغرافي - حجم الأقلية و قوتها - وطن الأقلية - كل ما سبق )
٦. .. يعد ..... في العالم الجديد أقلية عرقية .  
( الزنوج - البيض - الجنس المغولي - الروس )
٧. تعد ..... في جنوب إفريقيا أقلية عرقية .  
( البيض القوقازيون - الزنوج - الروس - الهنود الحمو)حمول / ٠١٩٣٧٣٠٨٨٦
٨. شهد دول الخليج العربي هجرة غير شرعية بأعداد غفيرة من .....  
(جنوب شرق أوروبا - جنوب شرق آسيا - جنوب شرق أستراليا - جنوب شرق البرازيل )
٩. من أمثلة الهجرة غير الشرعية هجرة الأفارقة إلى .....  
( مصر - الاتحاد الأوروبي - المغرب - تونس )

## ما مقترحاتك لـ

### القضاء على ظاهرة الهجرة الغير شرعية

⊙ تشديد الرقابة على المنافذ الغير رسمية منع دخول الاشخاص غير مرغوب فيهم خشية تهديد التماسك القومي للبلاد

⊙ رفع المستوى الاجتماعي والاقتصادي والصحي والامن للدول النامية

⊙ تفعيل القوانين على المهاجرين بطرق غير شرعية

⊙ الاسراع في اقامة العديد من المشروعات للتوفير فرص العمل



# ما الفرق / قارن

الهجرة الغير شرعية	الهجرة الاجبارية	الشبة
الهجرة الغير شرعية	الهجرة الاجبارية	الشبة
١: انتقال شخص من دولة إلى أخرى من غير المنافذ الرسمية للدول دون اتباع الطرق القانونية التي تنظم انتقال الأشخاص بين الدول ٢: تحدث لأسباب اقتصادية واجتماعية والامنية	١. تعني تعرض الإنسان رغم إرادته للهجرة خارج أو داخل الوطن الذي يأويه ٢: تحدث للأسباب بسبب • كوارث الطبيعية، • دوافع قومية • صراعات ونزاعات مسلحة	الاختلاف

أوجه الشبة والاختلاف بين التفرقة العنصرية ضد الزوج في الولايات المتحدة الأمريكية دولة جنوب افريقيا برهن على صح او خطأ اختلاف التفرقة العنصرية في الولايات المتحدة الأمريكية عن دولة جنوب افريقيا

التفرقة العنصرية في الولايات المتحدة الأمريكية	التفرقة العنصرية في دولة جنوب افريقيا	الشبة
تمارس التفرقة العنصرية ضد الزوج	تمارس التفرقة العنصرية ضد الزوج	الشبة
١. تمارس الاقلية من البيض التفرقة العنصرية ضد الاقلية من الزوج ٢. الزوج هم الاغلبية واصحاب الارض والبيض هم المهاجرين ٣. الزوج هم الاقلية والبيض هم الاغلبية	١. تمارس الاغلبية التفرقة العنصرية ضد الاقلية من الزوج ٢. الزوج والبيض مهاجرين ٣. الزوج هم الاقلية والبيض هم الاغلبية	الاختلاف

محمول / ٠١٠٩٢٧٣٣٠٨٨٦